

SEAL

INSTRUCTIONS

INSTRUCTIONS REGARDING METHOD OF ANSWERING QUESTIONS

(Please use Black Ball Point Pen Only)

1. Method of Marking Answer :

To give an answer, please darken one bubble out of the given five, in the OMR Answer Sheet against that question.

2. Valuation Procedure :

There are five answers to a question, only one of them is correct / nearly correct. 02 marks will be awarded for each correct / nearly correct answer and 01 mark will be deducted for each wrong answer. If more than one bubble are darkened for a question, it will be treated as wrong answer.

3. Handing over of Answer Sheet to Invigilator :

(i) Please ensure that all the entries in the answer sheet are filled up properly i.e. Name, Roll No., Signature, Question Booklet No. etc.

(ii) Before the limitation of 2 Hours duration while leaving the examination hall, hand over the question paper to the invigilator. If needed, after duration of period, you can ask for your question paper from the Centre Superintendent.

4. Care in Handling the Answer Sheet:

While using answer sheet adequate care should be taken about tear or spoil due to folds or wrinkles.

प्रश्नों के उत्तर देने सम्बन्धी निर्देश

(कृपया काले बाल पॉइण्ट पेन का ही प्रयोग करें)

1. उत्तर देने का तरीका :

उत्तर देने के लिये ओ.एम.आर. उत्तर पुस्तिका में सम्बन्धित प्रश्न के बाजू में दिये गये पाँच गोलेओं में से केवल एक गोले को पूरा काला कीजिए।

2. मूल्यांकन पद्धति :

प्रत्येक प्रश्न के पाँच सम्भावित उत्तर हैं, उनमें से एक उत्तर सही / लगभग सही है। प्रश्न का सही / लगभग सही उत्तर अंकित करने से 02 अंक प्राप्त होंगे तथा गलत उत्तर अंकित करने पर 01 अंक काटा जायेगा। यदि एक से ज्यादा गोले काले किये जाते हैं तो यह गलत उत्तर माना जायेगा।

3. उत्तर शीट चीक्षक को सौंपना :

(i) चीक्षक को उत्तरशीट सौंपने के पहले सुनिश्चित कर लें कि उत्तर-शीट के दोनों पृष्ठों पर सभी पूर्तियाँ जैसे नाम, रोल-नम्बर, हस्ताक्षर, प्रश्न-पुस्तिका का नम्बर, आवि निर्धारित स्थान पर टीक-ठीक भरे गये हैं।


(ii) 2 घण्टे की समय सीमा के पूर्व परीक्षा हॉल छोड़ते समय प्रश्न-पत्र चीक्षक के पास जमा करें। यदि आवश्यक हुआ तो समय सीमा के पश्चात् केन्द्राध्यक्ष से अपना प्रश्न-पत्र वापस प्राप्त कर सकते हैं।

4. उत्तरशीट के उपयोग में सावधानी :

उत्तरशीट का प्रयोग करते समय पूरी तरह से सावधानी बरतें। इसे फटने, मोड़ने या सलवट पड़ने से खराब न होने दें।



परिक्षा केन्द्राध्यक्ष की मोहर
Seal of Superintendent of Examination Centre



चीक्षक के हस्ताक्षर
(Signature of Invigilator)
चीक्षक का नाम
(Name of Invigilator)

CGP - 2012
प्रश्न पत्र/Question Paper
सामान्य अध्ययन/General Studies
(Sub Code - 01)

Booklet
Serial No.

126655

SET C

परीक्षार्थियों द्वारा काले बॉल पॉइण्ट पेन से भरा जाय।
To be filled by Candidates by Black Ball-Point pen only.

उत्तर - शीट का क्रमांक
Sr. No. of Answer Sheet

अनुक्रमांक
ROLL No. 1 2 0 2 1 2 3 9 1 2

1 2 5 4 3 3

घोषणा : मैंने नीचे दिये गये निर्देश अच्छी तरह पढ़कर समझ लिए हैं।
Declaration : I have read and understand the directions given below.

परीक्षार्थी के हस्ताक्षर
(Signature of Candidates)
परीक्षार्थी का नाम
(Name of Candidates)

दिनांक
(Date) 09/06/2013
समय
(Time) 10:00 AM

पुस्तिका में पृष्ठों की संख्या Number of Pages in Booklet	32	पुस्तिका में प्रश्नों की संख्या Number of Questions in Booklet	100	समय Time	2 घंटे Hours	पूर्णांक Total Marks	200
--	----	---	-----	-------------	-----------------	-------------------------	-----

INSTRUCTIONS FOR CANDIDATES

- (a) Candidates are allowed time to fill up the basic information about themselves in the OMR sheet such as Name, Roll No., etc.
- (b) All this question booklet will be given to the candidates they are required to do the following:
 - Examine the booklet and see that all paper seals at the edge of the booklet are intact. Do not accept the question booklet if either seals are not intact.
 - Tally the number of pages alongwith no. of questions printed on cover of the booklet. In case of any discrepancy please get the booklet changed immediately.
- (c) Candidates are not permitted to mark answers in the Answer Sheet in this time. TWO HOURS will be given to mark the answers.
- (a) On Answer Sheet, supplied to you write / put Roll No., Question Booklet No., Set of Question Booklet (A, B, C or D), Name of Candidate, Signature of Candidate, Date of Exam., Name of the Centre and District by Black Ball Point Pen.
 - On Answer Sheet fill in your Roll No., Question Booklet Set and Centre Code etc. by darkening corresponding circle O with Black Ball Point Pen.
 - On Answer Sheet only the answers to questions are to be marked. The instructions for this are available on the back cover page of this question booklet.
- Optical Mark Reader (OMR) machine prepares the result by reading the entries made in the circles O with the Black Ball Point Pen on the Answer Sheet, hence the candidates must be extremely careful in marking these marks and must not commit errors.
- Please do not write / mark on Answer Sheet anything extra except what is asked for.
- USE OF ANY CALCULATOR, LOG TABLES, MOBILE PHONE ETC. IS PROHIBITED.
- Rough work should be done on the blank pages or in the space provided for this on each page of this question booklet. Extra paper will not be supplied.
- If there is any sort of mistakes/discrepancy (in Hindi or English Version of the question) either of printing or of factual nature than regarding this Commission's decision will be final. (For instructions regarding marking the answers please see the back cover page of this Question Booklet)

परीक्षार्थियों के लिए निर्देश

- (क) अभ्यर्थियों को ओ.एम.आर. उत्तरशीट में प्रविष्टियों जैसे नाम, रोल नं. आदि भरने के लिये अतिरिक्त समय दिया गया है।
 - इस लिये गये समय के पर्याप्त अभ्यर्थियों को प्रश्न-पुस्तिका दी जायेगी। आरम्भ के निम्नानुसार कार्यवाही करना है :-
 - प्रश्न पुस्तिका में पार्श्व बाज में लगाई हुई काला की सील चेक करें। बिना कागज की सील लगी अथवा कुछेक प्रश्न पुस्तिकाओं में अंकित न करें।
 - प्रश्न पुस्तिका के पृष्ठों तथा पृष्ठों की संख्या का मिलान इस पृष्ठ पर दी गई संख्याओं से करा लें। यदि इनमें कोई भिन्नता हो तो कृपया प्रश्न-पुस्तिका बदलवायें।
 - परीक्षा प्रारम्भ होने की इस अवधि में उत्तर अंकित करने की अनुमति नहीं है। उत्तर अंकित करने के लिए दो घण्टे का समय और दिया जायेगा।
- (क) दी गई उत्तर-शीट में काले बाल पॉइण्ट पेन से अनुक्रमांक, प्रश्नपुस्तिका का क्रमांक, प्रश्नपुस्तिका का सेट (A, B, C अथवा D), परीक्षार्थी का नाम, परीक्षार्थी के हस्ताक्षर, परीक्षा का केंद्र, परीक्षा केन्द्र तथा जिले का नाम अंकित करें।
 - उत्तर-शीट में रोल नं., प्रश्न पुस्तिका का सेट, केन्द्र कोड आदि संबंधित गोले O को फलतः बाल पॉइण्ट पेन से काला करें।
 - उत्तर-शीट में प्रश्नों के उत्तर अंकित करने हैं। इस संबंध में निर्देश इस प्रश्न पुस्तिका के पीछे दिये गये हैं।
- ऑप्टिकल मार्क रीडर (OMR) मशीन उत्तर-शीट की फालत बाल पॉइण्ट पेन से भर गये O की प्रविष्टियों को पढ़कर परीक्षाफल तैयार करती है, अतः परीक्षार्थियों को अत्यंत सावधानी बरतनी है कि वे उत्तर-शीट में प्रविष्टियों को ध्यानपूर्वक पूर्ण-पूरी सावधानी बरतें एवं कोई त्रुटि न करें।
- उत्तर-शीट पर निर्धारित स्थानों पर चाली गई प्रविष्टियाँ भरने के अलावा कुछ न लिखें / अंकित करें।
- किसी भी प्रकार के कैलकुलेटर, लॉग टेबल एवं मोबाइल फोन आदि का प्रयोग वर्जित है।
- रफ़ कार्य इस प्रश्न-पुस्तिका के निर्धारित खाली पृष्ठों में अथवा अन्य पृष्ठों में निर्धारित जगहों पर करे अतिरिक्त पृष्ठ नहीं दिये जायेंगे।
- यदि किसी प्रश्न (प्रश्न के हिन्दी अथवा अंग्रेजी रूप-रंग में) में किसी प्रकार की कोई त्रुटि या तथ्यात्मक प्रकार की त्रुटि हो, तो इस सम्बन्ध में आयोग का निर्णय अन्तिम होगा।
(उत्तर अंकित करने के लिए कृपया प्रश्न पुस्तिका के पीछे उक्त पृष्ठ पर दिए गए निर्देशों को देखें)

SEAL

SEAL

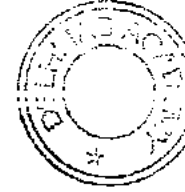
SEAL

रफ कार्य के लिए स्थान
Space for Rough Work

EXAM – CGP – 2012
प्रश्न पत्र / Question Paper
सामान्य अध्ययन/General Studies

Ans. sheet no.
125433

Est. no.
1202123912



SET - C

उत्तर अंकित करने का समय : 2 घण्टे
Time for marking answers : 2 Hours

अधिकतम अंक : 200
Maximum Marks : 200

नोट :

1. इस प्रश्न-पत्र में 100 प्रश्न हैं। प्रत्येक प्रश्न 2 अंक का है। सभी प्रश्न करने अनिवार्य हैं।
2. प्रश्नों के उत्तर देने की विधि सम्बन्धी निर्देश जो आखिरी पृष्ठ पर दिये गये हैं, ध्यान से पढ़िये। प्रश्नों के उत्तर, दी गई उत्तर-शीट (आन्सर शीट) पर अंकित कीजिये।
3. किसी भी तरह के कैलकुलेटर या लॉग टेबल एवं मोबाइल फोन का प्रयोग वर्जित है।

Note :

1. This question paper has 100 questions. Each question carries 2 marks. Attempt all questions.
2. Read carefully instructions regarding method of answering questions given on the last page and indicate your answers on the Answer-Sheet provided.
3. Use of Any type of calculator or log table and Mobile Phone is prohibited.

1. माधवी मुद्गल किस नृत्य विधा से जुड़ी है ?

- (A) कथकली
(B) कथक
(C) ओडिसी
(D) भरतनाट्यम
(E) घूमर

2. किस संत ने अद्वैतवाद का प्रतिपादन किया ?

- (A) शंकराचार्य
(B) रामानंद
(C) कबीर
(D) चैतन्य
(E) इनमें से कोई नहीं

3. दण्डकारण्य परियोजना में सम्मिलित राज्य है

- (A) उत्तर प्रदेश, कर्नाटक एवं महाराष्ट्र
(B) तमिलनाडु, आंध्र प्रदेश एवं कर्नाटक
(C) आंध्र प्रदेश, छत्तीसगढ़ एवं उड़ीसा
(D) आंध्र प्रदेश, केरल एवं तमिलनाडु
(E) उत्तर प्रदेश, छत्तीसगढ़ एवं महाराष्ट्र

4. निम्न में से कौनसी श्रृंखला कश्मीर घाटी को सिंधु घाटी से अलग करती है ?

- (A) थौलाधार
(B) ग्रेट हिमालयन
(C) पीर पंजाल
(D) शिवालिक
(E) इनमें से कोई नहीं

1. With which of the following dance forms is Madhvi Mudgal associated ?

- (A) Kathakali
(B) Kathak
(C) Odissi
(D) Bharatnatyam
(E) Ghoomar

2. Which saint propounded 'Advaitvad' ?

- (A) Shankaracharya
(B) Ramanand
(C) Kabir
(D) Chaitnya
(E) None of these

3. The States involved in Dandakaranya project are

- (A) Uttar Pradesh, Karnataka and Maharashtra
(B) Tamil Nadu, Andhra Pradesh and Karnataka
(C) Andhra Pradesh, Chattisgarh and Orissa
(D) Andhra Pradesh, Kerala and Tamil Nadu
(E) Uttar Pradesh, Chattisgarh and Maharashtra

4. Which of the following ranges separates the Kashmir valley from the Indus valley ?

- (A) Dhauladhar
(B) Great Himalayan
(C) Pir Punjal
(D) Shivalik
(E) None of these



5. भारत में स्थित प्राचीनतम समूह की चट्टान है

- (A) दकन ट्रैप्स
(B) कडप्पा तंत्र
(C) विन्ध्य तंत्र
(D) आर्कियन तंत्र
(E) द्राविडियन तंत्र

6. मार्च 2013 में ब्रिक्स (BRICS) का पाँचवाँ सम्मेलन कहाँ आयोजित किया गया ?

- (A) ब्राजीलिया
(B) नई दिल्ली
(C) सान्या
(D) डार्वन
(E) येकटेरीनबर्ग

7. 60 वें राष्ट्रीय फिल्म पुरस्कारों में सर्वश्रेष्ठ अभिनेता का पुरस्कार किन दो अभिनेताओं को दिया गया ?

- (A) अनु कपूर एवं इरफान खान
(B) अनु कपूर एवं विक्रम गोखले
(C) इरफान खान एवं विक्रम गोखले
(D) शिवाजी पाटिल एवं इरफान खान
(E) शिवाजी पाटिल एवं अनु कपूर

8. वर्तमान में भारतीय महिला क्रिकेट टीम का कप्तान किन्हें बनाया गया है ?

- (A) हरमनप्रीत कौर
(B) मिथाली राज
(C) पूनम राउत
(D) अर्चना दास
(E) इनमें से कोई नहीं

5. The oldest rock system found in India is

- (A) Deccan traps
(B) Cuddapah system
(C) Vindhyan system
(D) Archaean system
(E) Dravidian system

6. Where was the 5th BRICS Summit in March, 2013 held ?

- (A) Brasilia
(B) New Delhi
(C) Sanya
(D) Durban
(E) Yekaterinburg

7. Who are the two actors jointly awarded with the Best Actor Award in 60th National Film Awards ?

- (A) Annu Kapoor and Irfan Khan
(B) Annu Kapoor and Vikram Gokhale
(C) Irfan Khan and Vikram Gokhle
(D) Shivaji Patil and Irfan Khan
(E) Shivaji Patil and Annu Kapoor

8. Who has been recently appointed as the captain of Indian women cricket team ?

- (A) Harmanpreet Kaur
(B) Mithali Raj
(C) Poonam Rout
(D) Archana Das
(E) None of these

9. सही जोड़ मिलाइए :

- | | |
|---------------|----------------------------|
| A. कास्मोलॉजी | 1. पुष्पों का अध्ययन |
| B. इकालोजी | 2. स्नायु तंतुओं का अध्ययन |
| C. एन्थोलॉजी | 3. ब्रम्हाण्ड का अध्ययन |
| D. पोमोलॉजी | 4. फलों का अध्ययन |
| E. न्यूरोलॉजी | 5. पर्यावरण का अध्ययन |

A B C D E

- (A) 4 2 5 1 3
 (B) 2 4 1 5 3
 (C) 3 1 2 5 4
 (D) 5 1 3 2 4
 (E) 3 5 1 4 2

10. पी.ए.आर.ए.एम. एक उदाहरण है

- (A) सुपर कम्प्यूटर
 (B) लेपटॉप
 (C) पी.डी.ए.
 (D) पी.सी.
 (E) उक्त सभी

11. निम्न में से संविधान के किस भाग को सामान्य बहुमत से संशोधित नहीं कर सकते ?

- (A) नया राज्य बनाना
 (B) राष्ट्रपति के निर्वाचन की प्रक्रिया
 (C) संघ या राज्य की सरकारी भाषा
 (D) संसद की न्यूनतम उपस्थिति (कворम)
 (E) उपरोक्त सभी

9. Match the following :

- | | |
|--------------|-------------------------|
| A. Cosmology | 1. Study of flowers |
| B. Ecology | 2. Study of neurons |
| C. Anthology | 3. Study of universe |
| D. Pomology | 4. Study of fruits |
| E. Neurology | 5. Study of environment |

A B C D E

- (A) 4 2 5 1 3
 (B) 2 4 1 5 3
 (C) 3 1 2 5 4
 (D) 5 1 3 2 4
 (E) 3 5 1 4 2



10. P.A.R.A.M. is an example of

- (A) Super Computer
 (B) Laptop
 (C) PDA
 (D) PC
 (E) All these

11. Which of the following parts of the Constitution cannot be amended by a simple majority ?

- (A) Creation of new State
 (B) Process of the election of President
 (C) Official language of the Union or States
 (D) Provision of Quorum
 (E) All of these

12. एक व्यक्ति अपनी नागरिकता खो देगा यदि

- (A) वह नागरिकता को स्वेच्छा से परित्याग कर दे
 (B) सरकार उसकी नागरिकता वापिस ले ले
 (C) वह स्वेच्छा से अन्य देश की नागरिकता ले ले
 (D) उपरोक्त सभी
 (E) इनमें से कोई नहीं

13. भारत के राष्ट्रपति अपना त्यागपत्र किसको सौंपते हैं ?

- (A) उप-राष्ट्रपति को
 (B) मुख्य-न्यायाधीश को
 (C) लोक-सभा अध्यक्ष को
 (D) प्रधानमंत्री को
 (E) मुख्य-निर्वाचन आयोग को

14. 2 अक्टोबर 1959 को भारत में पंचायती राज का शुभारम्भ निम्न में से कहाँ पर किया गया था ?

- (A) नागौर - राजस्थान
 (B) राजमुंदरी - आंध्र प्रदेश
 (C) सीतामढ़ी - बिहार
 (D) अलीगढ़ - उत्तर प्रदेश
 (E) पुणे - महाराष्ट्र

15. भारत में उप-राष्ट्रपति के निर्वाचन से संबंधित विवाद को कौन तय करते हैं/करता है ?

- (A) राष्ट्रपति
 (B) निर्वाचन आयोग
 (C) सर्वोच्च न्यायालय
 (D) राज्य सभा अध्यक्ष
 (E) लोक-सभा अध्यक्ष

12. A person will lose his citizenship if

- (A) he voluntarily surrenders his citizenship
 (B) the Government withdraws his citizenship
 (C) he voluntarily accepts citizenship of another country
 (D) All of the above
 (E) None of these

13. To whom does the President of India submit his resignation ?

- (A) Vice-President
 (B) Chief-Justice
 (C) Speaker of Lok Sabha
 (D) Prime Minister
 (E) Chief Election Commissioner

14. On 2nd October 1959, Panchayati Raj was introduced in India at which of the following places ?

- (A) Nagore - Rajasthan
 (B) Rajmundari - Andhra Pradesh
 (C) Sitamarhi - Bihar
 (D) Aligarh - Uttar Pradesh
 (E) Pune - Maharashtra

15. Who decides the dispute regarding election of Vice-President in India ?

- (A) President
 (B) Election Commission
 (C) Supreme Court
 (D) Chairperson Rajya Sabha
 (E) Speaker of Lok Sabha

16. सूची 1 को सूची 2 से मिलाइए :

सूची 1 (छ.ग.के प्राचीन राजवंश)	सूची 2 (शासक)
A. राजर्षितुल्यकुल	1. पद्मशिव गुप्त
B. शरभपुरीय	2. भीमसेन
C. पाण्डु वंश	3. भवदत्त वर्मन
D. नलवंश	4. प्रसन्नमात्र

- 2- (A) A-3, B-1, C-4, D-2
 (B) A-2, B-4, C-1, D-3
 (C) A-1, B-3, C-2, D-4
 (D) A-4, B-2, C-3, D-1
 (E) A-1, B-2, C-3, D-4

17. निम्नलिखित कलचुरि शासकों ने रतनपुर से राज्य किया

1. जाजल्लदेव I 2. पृथ्वीदेव II
 3. प्रतापमल्ल 4. रत्नदेव II
 इन शासकों का क्रम निर्धारित कीजिये।

- (A) 3, 2, 4, 1
 (B) 4, 1, 3, 2
 (C) 2, 3, 1, 4
 (D) 1, 4, 2, 3
 (E) 2, 4, 1, 3

18. निम्नलिखित में से कौनसा युग्म - सुमेलित है ?

- (A) वीरनारायण सिंह - सिडबेल की हत्या
 (B) कण्डेल नहर सत्याग्रह - पं. सुंदरलाल शर्मा
 (C) बी.एन.सी. मिल मजदूर हड़ताल - नारायणराव मेघावाले
 (D) 'छत्तीसगढ़ मित्र' का प्रकाशन - वामनराव लाखे
 (E) सिहावा जंगल सत्याग्रह - हनुमानसिंह

16. Match List 1 with List 2

List 1 (Ancient dynasties of C.G.)	List 2 (Rulers)
A. Rajarshilulyakul	1. Mahashivgupta
B. Sharabhpunya	2. Bhimsen
C. Pandu Dynasty	3. Bhavadatt Varman
D. Nala Dynasty	4. Prasannamatra

- (A) A-3, B-1, C-4, D-2
 (B) A-2, B-4, C-1, D-3
 (C) A-1, B-3, C-2, D-4
 (D) A-4, B-2, C-3, D-1
 (E) A-1, B-2, C-3, D-4

17. The following Kaichuri rulers ruled from Ratanpur

1. Jajalladev I 2. Prithvidev II
 3. Pratapmall 4. Ratnadev II
 Arrange them chronologically

- (A) 3, 2, 4, 1
 (B) 4, 1, 3, 2
 (C) 2, 3, 1, 4
 (D) 1, 4, 2, 3
 (E) 2, 4, 1, 3

18. Which of the following pairs is matched ?

- (A) Veer Narayan Singh - Assassination of Sidwell
 (B) Kandel Canal Satyagraha - Pt. Sunderlal Sharma
 (C) B.N.C. Mill Workers' Strike - Narayanrao Meghawale
 (D) Publication of 'Chhattisgarh Mitra' - Wamanrao Lakhe
 (E) Sihawa Forest Satyagraha - Hanuman Singh

19. गांधीजी का सर्वप्रथम रायपुर आगमन किस तिथि को हुआ ?

- (A) 18 दिसंबर 1920
 (B) 19 दिसंबर 1920
 (C) 20 दिसंबर 1920
 (D) 21 दिसंबर 1920
 (E) 22 दिसंबर 1920

20. निम्न कथनों को पढ़िये

1. सविनय अवज्ञा आंदोलन के दौरान छ.ग.में जंगल सत्याग्रह हुए।
 2. छ.ग. में सविनय अवज्ञा आंदोलन शांतिपूर्ण रहा।
 3. नवागांव - रुद्री जंगल सत्याग्रह में पुलिस ने गोली चालन किया।

सही उत्तर चुनिये :

- (A) केवल 1 सही है
 (B) केवल 2 सही है
 (C) 1 एवं 2 सही हैं
 (D) 1, 2 एवं 3 सही हैं
 (E) 1 एवं 3 सही हैं

21. छत्तीसगढ़ सरकार ने अहिंसा और गौ-रक्षा के लिये कौनसा सम्मान स्थापित किया है ?

- (A) मिनीमाला सम्मान
 (B) यति यतनलाल सम्मान
 (C) गुरु घासीदास सम्मान
 (D) पं. सुंदरलाल शर्मा सम्मान
 (E) महाराजा अग्रसेन सम्मान

22. वर्ष 2012 का दानवीर भामाशाह सम्मान किसे प्राप्त हुआ ?

- (A) रमेश मोदी
 (B) आर.एस. बारले
 (C) रविशंकर व्यास
 (D) आहन सिंह
 (E) रेहाना नियाज़ी

19. On which date Gandhiji visited Raipur for the first time ?

- (A) 18 December 1920
 (B) 19 December 1920
 (C) 20 December 1920
 (D) 21 December 1920
 (E) 22 December 1920

20. Read the following statements :

1. Jungle Satyagrahas were held during the Civil Disobedience Movement in C.G.
 2. Civil Disobedience Movement in C.G. was peaceful
 3. Police resorted to firing in the jungle Satyagraha of Rudri - Nawagaon

Select the correct answer :

- (A) Only 1 is correct
 (B) Only 2 is correct
 (C) 1 and 2 are correct
 (D) 1, 2 and 3 are correct
 (E) 1 and 3 are correct

21. Which of the following awards is instituted by Govt. of Chhattisgarh in the field of non-violence and cow-protection ?

- (A) Minimata Award
 (B) Yati Yatanlal Award
 (C) Guru Ghasidas Award
 (D) Pt. Sunderlal Sharma Award
 (E) Maharaja Agrasen Award

22. Who was honoured by Danveer Bhamashah Award for 2012 ?

- (A) Ramesh Modi
 (B) R.S. Barle
 (C) Ravishankar Vyas
 (D) Agahan Singh
 (E) Rehana Niyazi

23. छत्तीसगढ़ सरकार ने तकनीकी विद्यार्थियों को लैपटॉप और टेबलेट वितरण का शुभारंभ कहाँ से किया ?
 (A) भिलाई
 (B) बिलासपुर
 (C) राजनांदगांव
 (D) रायपुर
 (E) कांकेर
24. छत्तीसगढ़ उच्च न्यायालय के प्रथम मुख्य न्यायाधीश थे
 (A) अनंग कुमार पटनायक
 (B) डब्ल्यू.ए. शिशक
 (C) एच.एल.दत्त
 (D) जगदीश भल्ला
 (E) राजीव गुप्ता
25. छत्तीसगढ़ सरकार की व्याज अनुदान योजना के संबंध में निम्नलिखित में से कौनसा कथन सत्य है ?
 (A) कृषकों के कर्ज के व्याज पर अनुदान
 (B) लघु एवं मध्यम उद्योगों को बैंकों से लिये गये सावधि ऋण पर व्याज अनुदान
 (C) गरीबी रेखा के नीचे जीवनयापन करनेवालों को नगद सब्सिडी
 (D) बड़े उद्योगों को व्याज पर अनुदान
 (E) कृषकों को कृषि विकास के लिए व्याज मुक्त ऋण
26. तपेदिक रोग का कारण है
 (A) विषाणु
 (B) जीवाणु
 (C) कवक
 (D) प्रोटोजोआ
 (E) उक्त कोई नहीं

23. From which place the Chhattisgarh Govt. has initiated distribution of Laptops and tablets to technical students ?
 (A) Bhillai
 (B) Bilaspur
 (C) Rajnandgaon
 (D) Raipur
 (E) Kanker
24. The first Chief Justice of Chhattisgarh High Court was
 (A) Anang Kumar Patnayak
 (B) W.A. Shishak
 (C) H.L. Dattu
 (D) Jagdish Bhalla
 (E) Rajiv Gupta
25. Which of the following statements is true about the interest subsidy scheme of Chhattisgarh Govt. ?
 (A) Subsidy on interest on the loans of farmers
 (B) Interest subsidy on period loan taken from banks by the small and medium industries
 (C) Cash subsidy to the people living under poverty-line
 (D) Subsidy on interest to large industries
 (E) Interest-free loan to farmers for development of agriculture
26. The cause of Tuberculosis is
 (A) virus
 (B) bacteria
 (C) fungi
 (D) protozoan
 (E) none of these

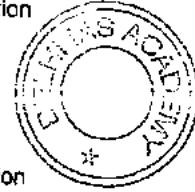


27. ग्लोबल वार्मिंग की स्थिति वातावरण में किस गैस की गहनता से पैदा होती है ?
 (A) आक्सीजन
 (B) कार्बनडाइआक्साइड
 (C) हाइड्रोजन
 (D) नाइट्रोजन
 (E) अमोनिया
28. आजकल वातावरण में CO₂ की सघनता की मात्रा पी.पी.एम. में लगभग
 (A) 250
 (B) 300
 (C) 360
 (D) 400
 (E) 460
29. क्लाइमेट शब्द किस भाषा से लिया गया है ?
 (A) अंग्रेजी
 (B) लैटिन
 (C) ग्रीक
 (D) जर्मन
 (E) जापानी
30. अतिहानिकारक अल्ट्रावाइलेट (UV) किरणें कौनसी है ?
 (A) UV A
 (B) UV C
 (C) UV B
 (D) UV D
 (E) UV F

27. The situation of global warming in atmosphere is developed due to increase in which gas ?
 (A) Oxygen
 (B) Carbondioxide
 (C) Hydrogen
 (D) Nitrogen
 (E) Ammonia
28. These days, the atmospheric concentration of CO₂ found in PPM is about
 (A) 250
 (B) 300
 (C) 360
 (D) 400
 (E) 460
29. The word climate is derived from which language ?
 (A) English
 (B) Latin
 (C) Greek
 (D) German
 (E) Japanese
30. Which rays of ultraviolet are most dangerous ?
 (A) UV A
 (B) UV C
 (C) UV B
 (D) UV D
 (E) UV F

31. छ.ग. राज्य के मंत्रियों के वेतन भत्तों के संबंध में निर्णय लेने के लिए कौन अधिकृत है ?
 (A) मुख्यमंत्री
 (B) मंत्रिमण्डल
 (C) राज्यपाल
 (D) विधानसभा
 (E) भारत का राष्ट्रपति
32. विभाग जो छत्तीसगढ़ राज्य में किसी भी मंत्री के अधीन नहीं है
 (A) स्कूल शिक्षा
 (B) गृह
 (C) सिंचाई
 (D) लोक निर्माण
 (E) उच्च शिक्षा
33. निम्नलिखितों में से छत्तीसगढ़ राज्य में कौन सा पद (ऑफिशियल पोजिशन) किसी भी व्यक्ति द्वारा वर्तमान में धारित नहीं है ?
 (A) संसदीय सचिव
 (B) विशेष सचिव
 (C) संयुक्त सचिव
 (D) उप-मंत्री
 (E) अतिरिक्त मुख्य सचिव
34. छत्तीसगढ़ राज्य के विधान सभा का प्रथम सत्र कब संपन्न हुआ था ?
 (A) 5 नवम्बर 2000 से 9 नवम्बर 2000
 (B) 1 दिसम्बर 2000 से 6 दिसम्बर 2000
 (C) 14 दिसम्बर 2000 से 19 दिसम्बर 2000
 (D) 17 दिसम्बर 2000 से 24 दिसम्बर 2000
 (E) 26 दिसम्बर 2000 से 31 दिसम्बर 2000

31. Who is authority to decide about the pay and allowances of Ministers in Chhattisgarh State ?
 (A) Chief Minister
 (B) Council of Ministers
 (C) Governor
 (D) Legislative Assembly
 (E) President of India
32. The department which is not under any of the Ministers in the State of Chhattisgarh
 (A) School Education
 (B) Home
 (C) Irrigation
 (D) Public Works
 (E) Higher Education
33. Which of the following posts (official position) is not presently held by any one in Chhattisgarh ?
 (A) Parliamentary Secretary
 (B) Special Secretary
 (C) Joint-Secretary
 (D) Deputy-Minister
 (E) Additional Chief Secretary
34. When did first session of the Chhattisgarh State Legislative Assembly take place ?
 (A) From 5-11-2000 to 9-11-2000
 (B) From 01-12-2000 to 06-12-2000
 (C) From 14-12-2000 to 19-12-2000
 (D) From 17-12-2000 to 24-12-2000
 (E) From 26-12-2000 to 31-12-2000
35. छत्तीसगढ़ में निम्नलिखित में से कौनसा जिला मुख्यालय नहीं है ?
 (A) बलौदाबाजार
 (B) जशपुर
 (C) कान्केर
 (D) बालोद
 (E) बस्तर
36. छत्तीसगढ़ के आदिवासियों के संबंध में कौनसा कथन सही नहीं है ?
 (A) जनजातीय समाज पितृसत्तात्मक है
 (B) जनजातियों में भण्डिन्ह (Totem) का विशेष महत्त्व है
 (C) जनजातीय समाज में स्त्रियां गौरवान्वित होती हैं
 (D) जनजातीय समाज में अनेक देवताओं की पूजा होती है
 (E) जनजातीय समाज मातृसत्तात्मक होता है
37. छत्तीसगढ़ राज्य औद्योगिक विकास निगम द्वारा प्रायोजित औद्योगिक विकास केन्द्र रायपुर जिले में किस स्थान पर नहीं है ?
 (A) उरला
 (B) सिलतरा
 (C) तिफरा
 (D) भनपुरी-रावाभटा
 (E) उपरोक्त में कोई नहीं
38. छत्तीसगढ़ राज्य औद्योगिक विकास निगम द्वारा प्रायोजित एकीकृत अधोसंरचना विकास केन्द्र निम्नलिखित में से किस स्थान में नहीं है ?
 (A) बिरकोनी
 (B) हरिन्छपरा
 (C) नयनपुर
 (D) बोराई
 (E) उपरोक्त में कोई नहीं



35. Which of the following is not a district Head Quarter in Chhattisgarh ?
 (A) Balodabazar
 (B) Jashpur
 (C) Kanker
 (D) Balod
 (E) Bastar
36. Which of the following statements is not true about the tribals of Chhattisgarh ?
 (A) Tribal society is patriarchal
 (B) Totem has special importance in tribals
 (C) Women are respected in tribal society
 (D) Tribal society worships multiple Gods
 (E) Tribal society is matriarchal
37. At which place there is not an Industrial Growth Centre in Raipur district sponsored by Chhattisgarh State Industrial Development Corporation ?
 (A) Urla
 (B) Siltara
 (C) Tifra
 (D) Bhanpuri-Rawabhata
 (E) None of above
38. At which of the following places there is not an Integrated Infrastructure Development Centre sponsored by Chhattisgarh State Industrial Development Corporation ?
 (A) Birkoni
 (B) Harinchhapra
 (C) Nayanpur
 (D) Borai
 (E) None of above

39. निम्नलिखित में से कौनसा कथन छत्तीसगढ़ की कृषि अर्थव्यवस्था के संबंध में सत्य नहीं है ?
- (A) छत्तीसगढ़ की कृषि आजीविका प्रधान है
- (B) राज्य का अधिकतम जनभार कृषि पर है
- ← (C) कृषि में खाद्यान्नों की प्रधानता है
- (D) कृषि भूमि छोटे छोटे खेतों में बांटी हुई है
- (E) प्रति हेक्टेयर धान का उत्पादन सर्वाधिक है
40. सिंचाई के कोडार परियोजना छ.ग. के किस जिले में है ?
- (A) गरियाबंद
- (B) बिलासपुर
- ← (C) महासमुंद
- (D) रायगढ़
- (E) रायपुर
41. छत्तीसगढ़ी में निम्नलिखित महाकाव्य लिखे गये हैं
1. श्रीरामकथा
 2. श्रीकृष्णकथा
 3. श्रीमहाभारत कथा
 4. महाभारत चक्रव्यूह
- सही उत्तर चुनिये :
- (A) 1, 2 एवं 3
- (B) 2, 3 एवं 4
- (C) 1, 2 एवं 4
- (D) 1, 3 एवं 4
- (E) 1, 2, 3 एवं 4

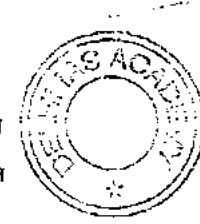
39. Which of the following statements is not true about the agricultural economy of Chhattisgarh ?
- (A) Agriculture of C.G. is livelihood-based
- (B) Maximum population pressure is on agriculture
- (C) Foodgrains are the main products of agriculture
- (D) Agricultural land is fragmented in small holdings
- (E) Production of per hectare paddy is maximum
40. In which district of Chhattisgarh the Kodar project for irrigation is located ?
- (A) Gariaband
- (B) Bilaspur
- (C) Mahasamund
- (D) Raigarh
- (E) Raipur
41. The following epics are written in Chhattisgarhi
1. Shri Ramkatha
 2. Sri Kirshnakatha
 3. Shri Mahabharat Katha
 4. Mahabharat Chakravyuha
- Select the correct answer :
- (A) 1, 2 and 3
- (B) 2, 3 and 4
- (C) 1, 2 and 4
- (D) 1, 3 and 4
- (E) 1, 2, 3 and 4

42. छत्तीसगढ़ी 'नाचा' के प्रवर्तक कौन थे ?

- (A) केदार यादव
- (B) रामचंद्र देशमुख
- ← (C) दुलारसिंह मंदराजी
- (D) भैयालाल हेडाऊ
- (E) झाड़ूराम देवांगन

43. निम्नलिखितों में कौनसा नृत्य छत्तीसगढ़ी लोकनृत्य नहीं है ?

- (A) सुआ नृत्य
- (B) पंथी नृत्य
- ← (C) चंदैनी नृत्य
- (D) राउत नाचा
- (E) राई नृत्य



44. तारे के लिये छत्तीसगढ़ी में जनउला (पहेली) क्या है ?

- (A) पांच भाई के ,एके अंगना
- (B) रात मां गरु, दिन मां हरु
- (C) जादा मीठा मा कीरा परय
- ← (D) परा भर लाई, गगन भर छाई
- (E) पूछी ले पानी पिये, मुडी ह ललियाय

45. 'लज्जित होना' के लिये छत्तीसगढ़ी मुहावरा क्या है ?

- (A) चित ले उतना
- (B) छेरिया होना
- ← (C) खटिया उसलना
- (D) लोटा धरना
- (E) दांत निपोरना

42. Who was promulgator of Chhattisgarhi 'Nacha' ?

- (A) Kedar Yadav
- (B) Ramchandra Deshmukh
- (C) Dularsingh Mandraji
- (D) Bhaiyalal Hedau
- (E) Jhaduram Dewangan

43. Which of the following is not a Chhattisgarh folk dance ?

- (A) Sua Dance
- (B) Panthi Dance
- (C) Chandaini Dance
- (D) Raut Nacha
- (E) Rai Dance

44. What is the Janaula (puzzle) in Chhattisgarhi for the stars ?

- (A) Panch Bhai Ke Eke Angana
- (B) Raat Man Garu, Din Man Haru
- (C) Jada Meetha Ma Keera Paray
- (D) Parra Bhar Lai, Gagan Bhar Chhai
- (E) Punchhi le Pani Piye, Mudi Ha Laliyay

45. What is the Chhattisgarhi idiom for 'being ashamed' ?

- (A) Chit le Utana
- (B) Chheriya Hona
- (C) Khatiya Usalna
- (D) Lota dharna
- (E) Dant Niporna

46. छत्तीसगढ़ में सबसे अधिक अरण्य क्षेत्र किस वन का है ?
 (A) साल वन
 (B) सागौन वन
 (C) मिश्रित वन
 (D) बांस वन
 (E) इनमें से कोई नहीं
47. निम्नलिखितों में से कौनसा राष्ट्रीय उद्यान छत्तीसगढ़ में नहीं है ?
 (A) इन्द्रावती
 (B) कागेर घाटी
 (C) गुरु घासीदास
 (D) कुटर
 (E) काजीरंगा
48. देश के खनिज उत्पादक राज्यों में छत्तीसगढ़ किस स्थान पर है ?
 (A) प्रथम
 (B) द्वितीय
 (C) तृतीय
 (D) चतुर्थ
 (E) पंचम
49. छत्तीसगढ़ में कोयला उत्पादन में कौनसा जिला प्रथम है ?
 (A) कोरबा
 (B) कोरिया
 (C) बिलासपुर
 (D) सरगुजा
 (E) दन्तेवाड़ा
50. राज्यपाल राज्य के विधान सभा को संबोधित करेंगे, संबंधी प्रावधान भारत के संविधान के किस अनुच्छेद में है ?
 (A) 172
 (B) 176
 (C) 182
 (D) 183
 (E) 187

46. Which of the following forests occupies the maximum forest area ?
 (A) Sal forest
 (B) Teak forest
 (C) Mixed forest
 (D) Bamboo forest
 (E) None of these
47. Which of the following National Parks does not exist in Chhattisgarh ?
 (A) Indravati
 (B) Kanger Valley
 (C) Guru Ghasidas
 (D) Kutru
 (E) Kaziranga
48. At which place Chhattisgarh is ranked among the mineral-producing States ?
 (A) First
 (B) Second
 (C) Third
 (D) Fourth
 (E) Fifth
49. Which district is first in the coal production in Chhattisgarh ?
 (A) Korba
 (B) Koriya
 (C) Bilaspur
 (D) Sarguja
 (E) Dantewada
50. The provision that Governor shall address the Legislative Assembly of the State is in which Article of the Constitution of India ?
 (A) 172
 (B) 176
 (C) 182
 (D) 183
 (E) 187



51. जनगणना 2011 के अनुसार निम्नलिखित में से किन जिलों में महिलाओं की संख्या पुरुषों की संख्या से अधिक है ?
 (A) नारायणपुर, दन्तेवाड़ा, कोरिया, जशपुर
 (B) कांकेर, महासमुन्द, रायगढ़, कबीरधाम
 (C) दन्तेवाड़ा, महासमुन्द, बस्तर, राजनांदगांव
 (D) धमतरी, जशपुर, नारायणपुर, विजापुर
 (E) रायपुर, महासमुन्द, धमतरी, सरगुजा
52. निम्नलिखितों में से किस जनजाति को छत्तीसगढ़ सरकार ने विशेष पिछड़ी जनजाति में अलग से शामिल किया है ?
 (A) भुंजिया
 (B) विरहोर
 (C) बैगा
 (D) अबुजमडिया
 (E) मुरिया
53. निम्नलिखितों में से कौनसी जोड़ी सुमेलित नहीं है ?
 (ख. ग. के संरक्षित स्मारक एवं जिले)
 (A) कर्णेश्वर महादेव मंदिर समूह - धमतरी
 (B) सिद्धेश्वर मंदिर - बलौं दाबाजार भाटापारा
 (C) फणिकेश्वरनाथ महादेव मंदिर - गरियाबंद
 (D) कपिलेश्वर मंदिर समूह - बालोद
 (E) लक्ष्मणेश्वर मंदिर - मुंगेली

51. Which districts have more female population than male population according to census 2011 ?
 (A) Narayanpur, Dantewada, Koriya, Jashpur
 (B) Kanker, Mahasamund, Raigarh, Kabirdham
 (C) Dantewada, Mahasamund, Bastar, Rajnandgoan
 (D) Dhamtari, Jashpur, Narayanpur, Bijapur
 (E) Raipur, Mahasamund, Dhamtari, Sarguja
52. Which one of the following tribes is separately included by Chhattisgarh Government as special primitive tribe ?
 (A) Bhunjia
 (B) Birhor
 (C) Baiga
 (D) Abujmadia
 (E) Muria
53. Which of the following pairs (protected monuments of Chhattisgarh and district) is not matched ?
 (A) Karneshwar Mahadev temple group - Dhamtari
 (B) Siddheshwar temple - Balodabazar-Bhatapara
 (C) Phanikeshwaramath Mahadev Temple - Gariyaband
 (D) Kapileshwar Temple Group - Balod
 (E) Lakshmaneshwar Temple - Mungeli

54. छ. ग. के निम्नलिखित स्थान उत्खनन के फल स्वरूप पर्यटन केन्द्रों के रूप में जाने जाते हैं

1. पचराही
2. महेशपुर
3. नागपुरा
4. सिरपुर

सही उत्तर चुनिये :

- (A) 1, 2 एवं 3
(B) 2, 3 एवं 4
(C) 1, 3 एवं 4
 (D) 1, 2 एवं 4
(E) 1, 2, 3, 4

55. निम्नलिखितों में से कौनसी जोड़ी (छत्तीसगढ़ी साहित्यकार एवं उनकी रचना) सुमेलित है ?

- (A) पं. सुंदरलाल शर्मा - दानलीला
(B) मुकुटधर पाण्डेय - हीरू के कहिनी
(C) कुंजबिहारी चौबे - कछेरी
(D) पृथ्वीपाल तिवारी - नागलीला
(E) नरेन्द्रदेव वर्मा - छत्तीसगढ़ महतारी

56. निम्न सूचियों को सुमेलित कीजिये

सूची 1 (जनजातीय विवाह) सूची 2 (वास्तविक नाम)

- | | |
|-----------------|--------------|
| A. क्रय विवाह | 1. पारिंग धन |
| B. सेवा विवाह | 2. लमसेना |
| C. अपहरण विवाह | 3. पायसोतुर |
| D. गंधर्व विवाह | 4. पोटा |

- | | A | B | C | D |
|-----|---|---|---|---|
| (A) | 1 | 2 | 3 | 4 |
| (B) | 2 | 3 | 4 | 1 |
| (C) | 3 | 4 | 1 | 2 |
| (D) | 4 | 3 | 1 | 2 |
| (E) | 4 | 1 | 2 | 3 |

54. The following sites are known as tourist centres as a result of their excavations

1. Pachrahi
2. Maheshpur
3. Nagpura
4. Sirpur

Select the correct answer :

- (A) 1, 2 and 3
(B) 2, 3 and 4
(C) 1, 3 and 4
(D) 1, 2 and 4
(E) 1, 2, 3, 4

55. Which of the following pairs (Chhattisgarhi literature and his work) is matched ?

- (A) Pt. Sundarlal Sharma - Danleela
(B) Mukutdhar Pandey - Hiru Ke Kahini
(C) Kunjbihari Chaube - Kachheri
(D) Prithvipal Tiwari - Nagleela
(E) Narendradev Varma - Chhattisgarh Mahatari

56. Match the following :

List 1 (Tribal Marriages) List 2 (Original Name)

- | | |
|------------------------|----------------|
| A. Purchase marriage | 1. Paring Dhan |
| B. Service marriage | 2. Lamsena |
| C. Kidnapping marriage | 3. Paysotur |
| D. Love marriage | 4. Pota |

- | | A | B | C | D |
|-----|---|---|---|---|
| (A) | 1 | 2 | 3 | 4 |
| (B) | 2 | 3 | 4 | 1 |
| (C) | 3 | 4 | 1 | 2 |
| (D) | 4 | 3 | 1 | 2 |
| (E) | 4 | 1 | 2 | 3 |

57. निम्न कथन पढ़िये

1. बस्तर की जनजाति में 'भतरा नाट' प्रचलित है।
2. भतरा नाट की कथावस्तु पौराणिक घटनाएं हैं।
3. भतरा नाट में सभी कलाकार पुरुष होते हैं।

सही उत्तर चुनिये

- (A) 1, 2 एवं 3 सही हैं
(B) 1 एवं 2 सही हैं
(C) 1 एवं 3 सही हैं
(D) केवल 1 सही है
(E) केवल 3 सही है

58. निम्न में से कौनसी जोड़ी (जनजाति एवं युवागृह) सुमेलित है ?

- (A) गोंड-घोटल
(B) मुरिया-बेलोआ
(C) उराँव-धुमकुरिया
(D) कमर-लहुरा
(E) कांवर-हरछट

59. बस्तर की परम्परागत शिल्पकला के प्रसिद्ध शिल्पकार कौन हैं ?

- (A) नर्मदा सोनसाय
(B) बेलगूर मंडावी
(C) आनंद सिंह श्याम
 (D) जयदेव बघेल
(E) गोविंदराम झारा

60. अबुज्जमाडिया आदिवासियों का प्रमुख पर्व है

- (A) गोंचा
(B) घेरसा
(C) कक्सर
(D) करमा
(E) दियारी

57. Read the following statements

1. 'Bhatra Nat' is prevalent among the tribals of Bastar.
2. The theme of 'Bhatra Nat' is mythological events.
3. All artistes in 'Bhatra Nat' are male.

Select the correct answer

- (A) 1, 2 and 3 are correct
(B) 1 and 2 are correct
(C) 1 and 3 are correct
(D) Only 1 is correct
(E) Only 3 is correct

58. Which of the following pairs (tribe and youth house) is matched ?

- (A) Gond - Ghotul
(B) Muriya - Belowa
(C) Oraon - Dhurmukuria
(D) Kamar - Lahura
(E) Kanwar - Harchhat

59. Who is the famous sculptor of traditional stone sculpture of Bastar ?

- (A) Narmada Sonsai
(B) Belgur Mandavi
(C) Anand Singh Shyam
(D) Jaydev Baghel
(E) Govindram Jhara

60. The main festival of Abujhmadia tribes is

- (A) Goncha
(B) Ghersa
(C) Kaksar
(D) Karma
(E) Diyari

61. बिलासपुर में भारत छोड़ो आंदोलन के नेता थे

1. ठाकुर छेवीलाल
2. जयनारायण पाण्डे
3. यदुनंदन प्रसाद श्रीवास्तव
4. राजकिशोर वर्मा

सही उत्तर चुनिये :

- (A) 1, 2 एवं 3
(B) 2, 3 एवं 4
(C) 1, 3 एवं 4
(D) 1, 2 एवं 4
(E) 1, 2, 3 एवं 4

62. छत्तीसगढ़ के निम्न लिखित किन जिलों की सीमा दूसरे राज्यों को स्पर्श नहीं करती ?

- (A) सरगुजा, बेमेतरा, जांजगीर-चाम्पा, धमतरी
(B) बालोद, बेमेतरा, कोरबा, जांजगीर-चाम्पा
(C) जशपुर, रायपुर, दन्तेवाड़ा, दुर्ग
(D) सुरजपुर, राजनांदगांव, बिजापुर, महासमुन्द
(E) राजनांदगांव, रायपुर, बस्तर, बिजापुर

63. निम्नलिखित में कौनसा भौतिक भाग छत्तीसगढ़ में सर्वाधिक क्षेत्र घेरता है ?

- (A) शिवनाथ मैदान
(B) हसदेव मैदान
(C) महानदी मैदान
(D) इन्द्रावती मैदान
(E) शंखिनी-डंकिनी मैदान

61. The following were the leaders of Quit India Movement in Bilaspur

1. Thakur Chhedilal
2. Jayanarayan Pande
3. Yadunandan Prasad Shrivastav
4. Rajkishore Varma

Select the correct answer :

- (A) 1, 2 and 3
(B) 2, 3 and 4
(C) 1, 3 and 4
(D) 1, 2 and 4
(E) 1, 2, 3 and 4



62. Which of the following districts of Chhattisgarh do not touch the boundaries of other States ?

- (A) Sarguja, Bemetara, Janjgir-Champa, Dhamtari
(B) Balod, Bemetara, Korba, Janjgir-Champa
(C) Jashpur, Raipur, Dantewada, Durg
(D) Surajpur, Rajnandagoan, Bijapur, Mahasamund
(E) Rajnandagaon, Raipur, Bastar, Bijapur

63. Which of the following physical divisions occupies largest area in Chhattisgarh ?

- (A) Seonath Plain
(B) Hasdeo Plain
(C) Mahanadi Plain
(D) Indravati Plain
(E) Shankini-Dankini Plain

64. वर्ष 2011 की जनगणना के अनुसार निम्नलिखित में से किस जिले में नगरीय जनसंख्या का प्रतिशत सबसे कम है ?

- (A) कबीरधाम
(B) बिजापुर
(C) जशपुर
(D) कांकेर
(E) सरगुजा

65. निम्नलिखित सूची को सुपेलित कीजिए

सूची 1	सूची 2
जिला	जनसंख्या का घनत्व
A. जांजगीर-चांपा	1. 391
B. नारायणपुर	2. 421
C. दुर्ग	3. 322
D. बिलासपुर	4. 20

A	B	C	D
(A) 1 3 4 2	(B) 2 4 1 3	(C) 4 2 3 1	(D) 3 1 2 4
(E) 4 1 3 2			

66. गुप्त वंश के निम्नलिखित शासकों को क्रम से लगाएँ

1. चन्द्रगुप्त
2. समुद्रगुप्त
3. चन्द्रगुप्त II
4. कुमारगुप्त
5. स्कन्दगुप्त

- (A) 1, 4, 3, 5, 2
(B) 2, 1, 3, 5, 4
(C) 1, 3, 4, 2, 5
(D) 5, 4, 3, 2, 1
(E) 1, 2, 3, 4, 5

64. Which of the following districts has the lowest percentage of urban population according to the census of 2011 ?

- (A) Kabirdham
(B) Bijapur
(C) Jashpur
(D) Kanker
(E) Sarguja

65. Match the following list :

List 1	List 2
(Districts)	(Population Density)
A. Janjgir - Champa	1. 391
B. Narayanpur	2. 421
C. Durg	3. 322
D. Bilaspur	4. 20

A	B	C	D
(A) 1 3 4 2	(B) 2 4 1 3	(C) 4 2 3 1	(D) 3 1 2 4
(E) 4 1 3 2			

66. Arrange the following rulers of Gupta dynasty in chronological order

1. Chandragupta
2. Samudragupta
3. Chandragupta II
4. Kumargupta
5. Skandhagupta

- (A) 1, 4, 3, 5, 2
(B) 2, 1, 3, 5, 4
(C) 1, 3, 4, 2, 5
(D) 5, 4, 3, 2, 1
(E) 1, 2, 3, 4, 5

67. नील क्रांति का नेतृत्व निम्नलिखित में से किसने किया था ?

- (A) बुधु भगत एवं झिंदारी मानकी
(B) दीनबन्धु मित्रा एवं मधुसूदन दत्त
(C) बिरसा मुंडा एवं गया मुण्डा
(D) दिगम्बर बिस्वास एवं बिष्णु चरण बिस्वास
(E) सिधु एवं कानू संथाल

68. सही मिलान कीजिये :

- A. मॉर्ले-मिंटो सुधार 1. देशव्यापी आंदोलन
B. साईमन कमीशन 2. असहयोग आंदोलन वापिसी
C. चोरी-चौरा घटना 3. सांप्रदायिक निर्वाचन
D. दाण्डी मार्च 4. नमक कानून का विरोध

A	B	C	D
(A) 3	4	1	2
(B) 3	1	2	4
(C) 2	3	4	1
(D) 4	1	2	3
(E) 2	1	4	3

69. नटाराज की प्रसिद्ध कांस्य-कलाकृति किस कला का एक विशिष्ट उदाहरण है ?

- (A) चोल कला
(B) गांधार कला
(C) मथुरा कला
(D) मौर्य कला
(E) अमरावती कला

67. Who among the following were the leaders of Indigo Revolt ?

- (A) Budhu Bhagat and Jhindari Manaki
(B) Deenbandhu Mitra and Madhusudan Dutt
(C) Birsa Munda and Gaya Munda
(D) Digambar Biswas and Bishnu Charan Biswas
(E) Sidhu and Kanu Santhal

68. Match the following :

- A. Morley-Minto Reforms 1. Nation-wide Agitation
B. Simon Commission 2. Suspending Non-cooperation movement
C. Chauri-Chaura Incident 3. Communal Representation
D. Dandi March 4. Breaking Salt Law

A	B	C	D
(A) 3	4	1	2
(B) 3	1	2	4
(C) 2	3	4	1
(D) 4	1	2	3
(E) 2	1	4	3

69. The famous bronze image of Nataraja is a fine example of which art ?

- (A) Chola Art
(B) Gandhar Art
(C) Mathura Art
(D) Maurya Art
(E) Amrawati Art

70. किस वायसराय के काल में "सफेद विद्रोह" हुआ था ?

- (A) लार्ड कर्जन
(B) लार्ड मिंटो
(C) लार्ड कैनिंग
(D) लार्ड हार्डिंग
(E) लार्ड लिटन

71. सर्पदंश का प्रभाव शरीर के किस अंग पर सबसे पहले होता है ?

- (A) नाड़ी मण्डल पर
(B) मस्तिष्क पर
(C) रक्त संचार पर
(D) फेफड़ों पर
(E) हृदय पर

72. मानव त्वचा है

- (A) एक कोशिका
(B) एक ऊतक
(C) एक अंग
(D) उक्त तीनों नहीं
(E) उक्त सभी

73. इन्सुलिन साचित होता है

- (A) स्प्लीन द्वारा
(B) गोनड द्वारा
(C) यकृत द्वारा
(D) पैक्रियास द्वारा
(E) इनमें से कोई नहीं

70. Under whose Vice-royalty the White Mutiny occurred ?

- (A) Lord Curzon
(B) Lord Minto
(C) Lord Canning
(D) Lord Hardinge
(E) Lord Lytton

71. The snake bite firstly affects which part of body ?

- (A) nervous system
(B) brain
(C) blood circulation
(D) lungs
(E) heart

72. Human skin is

- (A) A cell
(B) A tissue
(C) An organ
(D) None of these
(E) All these

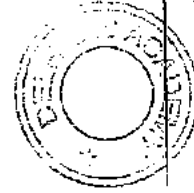
73. Insulin is secreted by

- (A) Spleen
(B) Gonads
(C) Liver
(D) Pancreas
(E) None of these



74. रंग-अन्ध व्यक्ति इनमें से किन रंगों को भेद नहीं कर सकता ?
 (A) पीला और हरा
 (B) काला और नीला
 R (C) लाल और हरा
 (D) नीला और हरा
 (E) उक्त सभी
75. जीन्स इनसे बने होते हैं
 (A) न्यूक्लिक एसिड्स
 (B) प्रोटीन्स
 R (C) कार्बोहाइड्रेट्स
 (D) लिपिड्स
 (E) उक्त सभी
76. छत्तीसगढ़ के किस जिले में लौह अयस्क का सबसे अधिक उत्पादन होता है ?
 (A) दंतवाड़ा
 (B) बस्तर
 (C) कांकेर
 W (D) दुर्ग
 (E) राजनांदगांव
77. छत्तीसगढ़ के किस जिले में सबसे अधिक चूना पत्थर का उत्पादन होता है ?
 (A) महासमुंद
 (B) धमतरी
 R (C) रायपुर
 (D) रायगढ़
 (E) सर्गुजा

74. A colour-blind person can not differentiate between the colours
 (A) yellow and green
 (B) black and blue
 (C) red and green
 (D) blue and green
 (E) all these
75. Genes are made-up of
 (A) nucleic acids
 (B) proteins
 (C) carbohydrates
 (D) lipids
 (E) all these
76. In which district in Chhattisgarh there is maximum production of iron ore ?
 (A) Dantewada
 (B) Bastar
 (C) Kanker
 (D) Durg
 (E) Rajnandgaon
77. In which district of Chhattisgarh there is maximum production of limestone ?
 (A) Mahasamund
 (B) Dhamtari
 (C) Raipur
 (D) Raigarh
 (E) Sarguja



78. निम्न में से कौनसी जोड़ी सुमेलित नहीं है ? (औद्योगिक क्षेत्र-जिला)
 (A) सिलतरा - रायपुर
 (B) बोर्डे - दुर्ग
 (C) सिरगिट्टी - बिलासपुर
 R (D) अंजनी - रायगढ़
 (E) उरला - रायपुर
79. किस कंपनी ने 2004 में 'भारत एल्युमिनियम कम्पनी लिमिटेड' का 51 प्रतिशत शेयर प्राप्त किया ?
 (A) एल्. एण्ड टी.
 (B) अम्बुजा
 R (C) जिंदल
 (D) डालमिया
 (E) स्टारलाइट
80. निम्नलिखित को सुमेलित कीजिये
 सूची 1 (छ.ग. के प्रदमश्री सम्मानिते) सूची 2 (वर्ष)
 A. डॉ. सुरेन्द्र दुबे 1. 2007
 B. डॉ. महादेव प्रसाद पाण्डे 2. 2010
 C. पुखराज बाफना 3. 2011
 D. भारती बंधु 4. 2012
- | | A | B | C | D |
|-----|---|---|---|---|
| (A) | 1 | 2 | 3 | 4 |
| (B) | 2 | 1 | 3 | 4 |
| (C) | 3 | 1 | 2 | 4 |
| (D) | 4 | 1 | 3 | 2 |
| (E) | 1 | 3 | 4 | 2 |
- W भारत में निम्न में से किस वस्तु श्रेणी पर खाने का व्यय सर्वाधिक तेजी से बढ़ रहा है ?
 (A) दूध एवं उत्पाद
 (B) दालें
 (C) अनाज
 (D) सब्जियाँ
 (E) फल

78. Which of the following pairs is not matched ? (Industrial area and district)
 (A) Siltara - Raipur
 (B) Borai - Durg
 (C) Sirgitti - Bilaspur
 (D) Anjani - Raigarh
 (E) Urla - Raipur
79. Which company has acquired 51% shares of 'Bharat Aluminium Co. Ltd.' in 2004 ?
 (A) L & T
 (B) Ambuja
 (C) Jindal
 (D) Dalmia
 (E) Starlite
80. Match the following (Padmashree Awardees of C.G. and Year)
 List 1 List 2
 A. Dr. Surendra Dube 1. 2007
 B. Dr. Mahadev Prasad Pande 2. 2010
 C. Pukhraj Bafna 3. 2011
 D. Bharati Bandhu 4. 2012
- | | A | B | C | D |
|-----|---|---|---|---|
| (A) | 1 | 2 | 3 | 4 |
| (B) | 2 | 1 | 3 | 4 |
| (C) | 3 | 1 | 2 | 4 |
| (D) | 4 | 1 | 3 | 2 |
| (E) | 1 | 3 | 4 | 2 |
81. On which of the following item groups, is the share of food expenditures increasing at the fastest rate in India ?
 (A) Milk and Products
 (B) Pulses
 (C) Cereals
 (D) Vegetables
 (E) Fruits

82. भारत में एच.वाई.वी. उन्नत बीज (HYV seeds) के किस्म किसके द्वारा प्रारम्भ की गयी ?

- (A) जे.एल. नेहरू
(B) महालनोबिस
R (C) नॉर्मन बोर्लाग
(D) वी.कुरियन
(E) मौलाना आबाद

83. वैट (VAT) किस प्रकार का कर है ?

- (A) प्रत्यक्ष
R (B) अप्रत्यक्ष
(C) वैकल्पिक
(D) दोनों B व C
(E) इनमें से कोई नहीं

84. बाम्बे स्टॉक एक्सचेंज का क्या सूचकांक है ?

- (A) डो जोन्स
(B) निक्की
R (C) एस. एंड पी.
(D) नासडेक
(E) इनमें से कोई नहीं

85. 2013 के प्रारंभ में सम्पन्न हुई भारत-आस्ट्रेलिया टेस्ट सीरीज में "मैन ऑफ द सीरीज" किसे घोषित किया गया ?

- (A) एम.एस. धोनी
(B) आर.जडेजा
R (C) आर.अश्विन
(D) सी.पुजारा
(E) एम.क्लार्क

82. Who introduced HYV varieties of seeds in India ?

- (A) J.L. Nehru
(B) Mahalanobis
(C) Norman Borlaug
(D) V.Kurien
(E) Maulana Azad

83. What kind of tax is Value Added Tax ?

- (A) Direct
(B) Indirect
(C) Optional
(D) Both B and C
(E) None of these



84. What is the Index of Bombay Stock Exchange known as ?

- (A) Dow Jones
(B) NICCI
(C) S & P
(D) NASDAQ
(E) None of these

85. Who was declared 'Man of the Series' in the test series concluded in the beginning of 2013 between India and Australia ?

- (A) M.S. Dhoni
(B) R.Jadeja
(C) R.Ashwin
(D) C.Pujara
(E) M.Clarke

86. जांस्कर श्रेणी स्थित है

- R (A) जम्मू-कश्मीर
(B) उत्तरांचल
(C) असम
(D) अरुणाचल प्रदेश
(E) मेघालय

87. भारत में सड़कों का घनत्व किस राज्य में सर्वाधिक है ?

- (A) मध्य प्रदेश
(B) केरल
R (C) उत्तर प्रदेश
(D) महाराष्ट्र
(E) छत्तीसगढ़

88. निम्नलिखित में से किस स्थान पर लौह-इस्पात का उद्योग नहीं है ?

- R (A) झरिया
(B) जमशेदपुर
(C) दुर्गापुर
(D) भिलाई
(E) टाटानगर

89. भारतीय संविधान की दसवीं अनुसूची (Schedule) किताबें संबंधित है ?

- (A) दल-बदल कानून
R (B) संघ की भाषाएँ
(C) जम्मू-कश्मीर को विशेष दर्जा
(D) विधायी कार्यों की सूची
(E) इनमें से कोई नहीं

86. Zaskar range is situated in

- (A) Jammu-Kashmir
(B) Uttaranchal
(C) Assam
(D) Arunachal Pradesh
(E) Meghalaya

87. Which State in India has the maximum density of roads ?

- (A) Madhya Pradesh
(B) Kerala
(C) Uttar Pradesh
(D) Maharashtra
(E) Chhattisgarh

88. Which of the following places does not have Iron and Steel industry ?

- (A) Jharria
(B) Jamshedpur
(C) Durgapur
(D) Bhilai
(E) Tatanagar

89. The Tenth Schedule of Indian Constitution deals with

- (A) Anti-defection law
(B) Languages of the union
(C) Special status to Jammu and Kashmir
(D) List of legislative business
(E) None of these

90. लोक लेखा समिति अपनी रिपोर्ट किसे सौंपती है ?

- (A) राज्य सभा के सभापति को
(B) लोक सभा अध्यक्ष को
(C) भारत के राष्ट्रपति को
(D) केन्द्रीय वित्तमंत्री को
(E) इनमें से कोई नहीं

91. भारतीय संविधान के अन्तर्गत मूल अधिकारों का संरक्षक कौन है ?

- (A) संसद
(B) राष्ट्रपति
(C) न्यायपालिका
(D) मंत्रिमण्डल
(E) कार्यपालिका

92. भारत में राष्ट्रीय आय का आकलन कौनसी संस्था करती है ?

- (A) रिजर्व बैंक ऑफ इंडिया
(B) योजना आयोग
(C) वित्त आयोग
(D) केन्द्रीय सांख्यिकी संगठन
(E) राष्ट्रीय आय समिति

93. भारत में बीमा क्षेत्र का नियम कौनसी संस्था करती है ?

- (A) डी.एफ.एच.आई.
(B) सी.आई.आई.
(C) सेबी
(D) आई.आर.डी.ए.
(E) एल.आई.सी.

90. To whom does the Public Accounts Committee submit its report ?

- (A) Chairman of Rajya Sabha
(B) Speaker of Lok Sabha
(C) President of India
(D) Union Finance Minister
(E) None of these

91. Under the Constitution of India, who is the guardian of fundamental duties ?

- (A) Parliament
(B) President
(C) Judiciary
(D) Cabinet
(E) Executive



92. Which of the following body estimates national income in India ?

- (A) Reserve Bank of India
(B) Planning Commission
(C) Finance Commission
(D) Central Statistical Organisation
(E) National Income Committee

93. Which body in India does the regulation of Insurance Sector ?

- (A) D.F.H.I.
(B) C.I.I.
(C) SEBI
(D) I.R.D.A.
(E) L.I.C.

94. किस पंचवर्षीय योजना में भारत की कृषि वृद्धि दर सर्वाधिक रही है ?

- (A) नवीं पंचवर्षीय योजना
(B) दसवीं पंचवर्षीय योजना
(C) आठवीं पंचवर्षीय योजना
(D) चौथी पंचवर्षीय योजना
(E) तृतीय पंचवर्षीय योजना

95. वर्तमान में भारत के सकल पूंजी निर्माण का कितना अंश कृषि एवं सम्बंधित क्रियाओं से प्राप्त होता है ?

- (A) लगभग 20%
(B) लगभग 7%
(C) लगभग 12%
(D) लगभग 14%
(E) लगभग 32%

96. हड़प्पा के काल का तांबे का रथ किस स्थान से प्राप्त हुआ था ?

- (A) कुनाल
(B) राखीगढ़ी
(C) दैमाबाद
(D) बनवाली
(E) रोपर

97. निम्न अंग्रेज शासकों में से समाचार-पत्रों पर से प्रतिबंध समाप्त करने का श्रेय किसे मिलता है ?

- (A) लार्ड विलियम बेंटिंक
(B) चार्ल्स मेटकॉफ
(C) लार्ड मैकाले
(D) वारेन हेस्टिंग्स
(E) लार्ड क्लाइव

94. During which Five Year Plan, did Indian agriculture grow at the highest rate ?

- (A) Ninth Five Year Plan
(B) Tenth Five Year Plan
(C) Eighth Five Year Plan
(D) Fourth Five Year Plan
(E) Third Five Year Plan

95. Currently, what is the share of agriculture and allied activities in Gross Capital Formation of India ?

- (A) About 20%
(B) About 7%
(C) About 12%
(D) About 14%
(E) About 32%

96. From where the copper chariot of Harappan times was found ?

- (A) Kunal
(B) Rakhigarhi
(C) Daimabad
(D) Banawali
(E) Ropar

97. From the following Britishers, who is credited for removal of ban on newspapers ?

- (A) Lord William Bentinck
(B) Charles Metcalf
(C) Lord Macaulay
(D) Warren Hastings
(E) Lord Clive

98. 'अणुव्रत' शब्द किस धर्म से जुड़ा है ?

- (A) महायान बौद्ध धर्म
 (B) हिनयान बौद्ध धर्म
 (C) जैन धर्म
 (D) लोकायत मत
 (E) हिन्दू धर्म

99. मथुरा की शिल्प कला के लिये किस पत्थर का प्रयोग होता है ?

- (A) संगमरमर
 (B) काला पत्थर
 (C) लाल बलुआ पत्थर
 (D) ग्रेनाइट
 (E) सफेद बलुआ पत्थर

100. निम्न को सुपेलित कीजिए :

- | | |
|--------------|--------------------|
| A. नन्दी | 1. दिव्य सफेद हाथी |
| B. कल्पवृक्ष | 2. पवित्र गाय |
| C. ऐरावत | 3. शिव का साँड |
| D. कामधेनु | 4. स्वर्ग का वृक्ष |

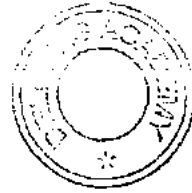
	A	B	C	D
(A)	3	4	1	2
(B)	1	2	3	4
(C)	4	3	2	1
(D)	3	1	4	2
(E)	2	4	3	1

98. To which religion is the term 'Anuvrat' related ?

- (A) Mahayana Buddhism
 (B) Hinayana Buddhism
 (C) Jainism
 (D) Lokayata School
 (E) Hinduism

99. The Sculptures in Mathura School of Art are made of

- (A) Marble
 (B) Slate stone
 (C) Red sand stone
 (D) Granite
 (E) White sand stone



100. Match the following :

- | | |
|----------------|--------------------------|
| A. Nandi | 1. Divine white elephant |
| B. Kalpvriksha | 2. Holy cow |
| C. Airawat | 3. Shiva's bull |
| D. Kamdhenu | 4. Divine tree |

	A	B	C	D
(A)	3	4	1	2
(B)	1	2	3	4
(C)	4	3	2	1
(D)	3	1	4	2
(E)	2	4	3	1

रफ कार्य के लिए स्थान
 Space for Rough Work

सही - 61 122
 गलत - 13 13
 109

109
 2.850

84.8%

रफ कार्य के लिए स्थान
Space for Rough Work

रफ कार्य के लिए स्थान
Space for Rough Work



EXAM – CGP – 2012
प्रश्न पत्र / Question Paper
योग्यता परीक्षा / Aptitude Test



SET – C

उत्तर अंकित करने का समय : 2 घण्टे
Time for marking answers : 2 Hours

अधिकतम अंक : 200
Maximum Marks : 200

नोट :

1. इस प्रश्न-पत्र में 100 प्रश्न हैं। प्रत्येक प्रश्न 2 अंक का है। सभी प्रश्न करने अनिवार्य हैं।
2. प्रश्नों के उत्तर देने की विधि सम्बन्धी निर्देश जो आखिरी पृष्ठ पर दिये गये हैं, ध्यान से पढ़िये। प्रश्नों के उत्तर, दी गई उत्तर-शीट (आन्तर शीट) पर अंकित कीजिये।
3. किसी भी तरह के कैलकुलेटर या लॉग टेबल एवं मोबाइल फोन का प्रयोग वर्जित है।

Note :

1. This question paper has 100 questions. Each question carries 2 marks. Attempt all questions.
2. Read carefully instructions regarding method of answering questions given on the last page and indicate your answers on the Answer-Sheet provided.
3. Use of any type of calculator or log table and Mobile Phone is prohibited.

दिए गए गद्यांश को ध्यान से पढ़िए और उसके अन्त में दिए गए प्रश्नों के उत्तर दीजिए। प्रश्नों के उत्तर गद्यांश के विवरण पर ही आधारित होने चाहिए।

आरंभ में आप अपने विद्यालयीन सहपाठियों की ओर कोई ध्यान नहीं देते थे, बल्कि यों कहें कि आप उनके विरुद्ध खड़े हो जाते थे क्योंकि वे आपके लिए अजनबी थे। वे आपके बारे में उतना ही कम जानते थे जितना आप उनके बारे में। फलस्वरूप उनका आप से अलग थलग रहने का यह एक समुचित कारण बन चुका होगा, जिसे से आपने एक कठिनाई के रूप में महसूस किया होगा। आपको यह सीखना है कि दूसरों के प्रति कभी कोई पूर्वाग्रह धारणा न रखें, वह भी केवल इसलिए कि आप उनके बारे में कुछ नहीं जानते। यह एक घटिया कारण है जो आधी दुनिया को आपका शत्रु बना देता है। उनके बारे में गलत न सोचें जब तक कि वे आपके साथ कुछ बुरा न करें; और फिर उन कमियों से बचने का प्रयत्न करें, जो कि आपने उनमें देखी हैं। क्रोध, खिझ या शिकायत करने की अपेक्षा ऐसा करने से आपके प्रति उनका वैर विरोध अधिक शीघ्र मित्रता में बदल जाएगा। किसी से भी उस बात के लिए घृणा मत करो जिस पर उसका कोई बस नहीं है और जिस पर उसका सबसे कम बस चलता है, अर्थात् उसकी गरीबी, जिसके लिए तो घृणा करना ही नहीं है। मैं आशा करता हूँ कि आप किन्हीं आम दुर्भावनाओं के न तो शिकार बनें और न ही उनके हाथों छले जाएँ। अलबत्ता मुझे यह कहना चाहिए था "किसी से भी कतई घृणा मत करो", क्योंकि घृणा या अनादर का भाव उस खुशी की ओर इंगित करता है जो आप दूसरों के दुर्भाग्य को देखकर प्राप्त करते हैं। इसका अर्थ यह हुआ कि आप उनकी असफलताओं या अभाग्य पर खुश हैं।

Read the following passage carefully and answer the questions given at the end. The answers to the questions should be based on the contents of the passage only :

You seemed at first to take no notice of your school fellows, or rather to set yourself against them because they were strangers to you. They knew as little of you as you did of them; so that this would have been reason for their keeping aloof from you as well, which you would have felt as a hardship. Learn never to conceive a prejudice against others because you know nothing of them. It is bad reasoning, and makes enemies of half the world. Do not think ill of them till they behave ill to you; and then strive to avoid the faults which you see in them. This will disarm their hostility sooner than pique or resentment or complaint. Never despise anyone for anything that he cannot help—least of all, for his poverty. I hope you will neither be the dupe nor victim of vulgar prejudices. I might have said, "Never despise anyone at all", for contempt implies a pleasure in the ill of another. It means that you are glad on their failings or misfortunes.

आप अभी तक एक बिगड़ेल बच्चे की तरह रहते आए हैं और अपनी गर्जों के अनुसार कार्य करने के अभ्यस्त रहते आए हैं। दोनों जगह-घर पर और अपने खेल कूद के साथियों के बीच में।

अब आप अन्य साथियों के बीच आ गए हैं, जो कि आपकी बराबरी के हैं या आपसे बड़े और अधिक ताकतवर हैं और जिनके पास आपकी रुचियों, धुनों और सनकों के अतिरिक्त ध्यान देने के लिए अन्य कार्य हैं और आप इस स्थिति को अग्रिय, अरुचिकर या अन्यायपूर्ण समझते हैं। किन्तु सबसे पहला पाठ जो आपको सीखना कि दुनिया में आपके शिवाय भी दूसरे लोग हैं। जितना आप अपने आपको महत्वपूर्ण समझकर मूर्खवत्, दंभ-पूर्ण व्यवहार करेंगे, उतना ही आप अपने को अधिक असफल और हँसी के पात्र बनाएँगे। सच्ची समानता ही केवल सच्ची नैतिकता, सदाचार या बुद्धिमत्ता है। हमेशा याद रखिए कि आप दूसरों के बीच में केवल एक हैं और समाज में आप अपना स्थान शायद ही थूल सकें। अपने पिता के घर में आप अपनी खुशी के मुताबिक कार्य कर सकते थे; किन्तु बाहरी दुनिया में आपको हर मोड़ पर प्रतिस्पर्धी मिलेंगे। आप एक युवराज के रूप में पैदा नहीं हुए हैं जो लाखों को समाप्त करने या उन पर हुकम चलाएँ; आप केवल उनके भाग्य के सहभागी बनने की उम्मीद ही कर सकते हैं। या उनके साथ अपने मत भेदों को मैत्रीपूर्ण तरीके से सुलझा सकते हैं।

You have hitherto been a spoilt child, and have been used to have your own way, both in the house and among your play fellows. You have now got among other boys who are your equals or bigger and stronger than yourself and who have something else to attend to besides humouring your whims and fancies, and you feel this as a repulse or piece of injustice. But the first lesson to learn is that there are other people in the world besides yourself. The more airs of childish self-importance you give yourself, you will only expose yourself to be the more thwarted and laughed at. True equality is the only true morality or wisdom. Remember always that you are but one among others and you can hardly mistake your place in society. In your father's house, you might do as you pleased; in the world you will find competitors at every turn. You are not born a king's son, to destroy or dictate to millions; you can only expect to share their fate, or settle your differences amicably with them.

- लेखक घृणा से बचने की सलाह देते हैं। घृणा नैतिक दृष्टि से एक हानिकारक प्रवृत्ति है, क्यों कि यह
 - अच्छे रिश्तों को बढ़ावा देती है
 - एक सफल नेता का एक वांछनीय गुण है
 - दुर्भावना की शत्रु है
 - दूसरों की आपत्तियों में आपकी खुशी को प्रकट करती है
 - दूसरों की समृद्धि में आपकी असहिष्णुता जहिर करती है
- एक बिगडेल बच्चे के रूप में आप क्या करते थे ?
 - अपने खेल कूद के साथियों का नेतृत्व करने में आपको संकोच होता था
 - आप हर जगह अपने मार्ग पर चला करते थे
 - आप इतने अल्पभाषी थे कि दूसरों के साथ मेलजोल नहीं कर पाते थे
 - आप दूसरों के साथ झगड़ते रहते थे।
 - आप दूसरों से घृणा करते थे एवं उनके साथ खेलने से इन्कार कर देते थे
- हमें दूसरों के प्रति पूर्वाग्रह क्यों नहीं रखना चाहिए ?
 - क्योंकि वे आपसे अलग रहते हैं
 - क्योंकि ऐसा करना अनैतिक है
 - क्योंकि उनके साथ दुर्भावना-पूर्ण व्यवहार करने के लिए आपके पास पर्याप्त आधार नहीं है
 - क्योंकि उनके चरित्र में कुछ अवांछनीय तत्व हैं
 - क्योंकि वे आपसे बेहतर हैं

- The author advises people to avoid contempt. Contempt is an unhealthy tendency because it
 - fosters good relationships
 - is a desirable quality of a successful leader
 - is an enemy of prejudice
 - signifies your pleasure in the misfortunes of others
 - shows your intolerance for the prosperity of others
- As a spoilt child what did you do ?
 - You were shy enough to play as a leader among your play fellows
 - You followed your own course everywhere
 - You were too reserved to mix with others
 - You used to quarrel with others
 - You hated others and refused to play with them
- Why should we not harbour a prejudice against others ?
 - Because they keep aloof from you
 - Because it is immoral to do so
 - Because you do not have enough basis to treat them with prejudice
 - Because they have some undesirable elements in their character
 - Because they are superior to you

- सीखने हेतु पहला पाठ कौनसा है ?

- सीखने हेतु पहला सबक है आपके आसपास के लोगों के साथ बिना किसी अहंकार और आत्म-प्रशंसा की भावना के पूर्ण सपता के साथ रहना
- यह कि आप लोगों के नेता बनने और उन पर हुकम चलाने के लिए पैदा हुए हैं
- यह कि आपके चहुँ ओर के लोग इतने निम्न हैं कि उनका सम्मान नहीं किया जा सकता
- यह कि लोगों में व्याप्त विषमता को समाप्त नहीं किया जा सकता
- लोगों की हँसी न उड़ाये यद्यपि वे इसके पात्र हैं

उक्त प्रकार के लेखन को आप क्या कहेंगे ?

- डायरी
- पत्राचार
- उपदेश
- शोक सन्देश
- राजनैतिक सम्बोधन

- एक दल (टीम) के नेता को जो विभिन्न संस्कृतियों और सामाजिक पृष्ठभूमियों से आये सदस्यों के साथ काम करता है, उन्हें ध्यान रखना चाहिये

- विभिन्न भाषाओं के प्रयोग का
- सदस्यों की समानताओं को हृदयक तदनुसार व्यवहार करे
- समान संस्कृति वाले व्यक्तियों के समूह बनाये
- केवल उनकी गलत फहमी को दूर करने में अपना ध्यान केन्द्रित करें
- उपर्युक्त सभी

- What is the first lesson to learn ?

- The first lesson to learn is to live with people surrounding you in total harmony without any feeling of vanity and self importance
- that you are born to be a leader of the people to dictate to millions
- that the people around you are too lowly to be respected
- that inequality among the people cannot be abolished
- do not laugh at people though they deserve it.

- What would you call this kind of writing ?

- a diary
- a letter
- a sermon
- a condolence speech
- a political speech

- A team leader who works with the members coming from diverse cultures and social backgrounds must take care of

- Using different languages
- Finding out the commonalities among members and behave accordingly
- Making groups of same cultural people
- Concentrating only to reduce their misunderstanding
- All of the above

(COMMUNICATION)

7. किसी भी प्रकार के सम्प्रेषण में निम्नलिखित सम्मिलित है

- एक प्रेषणकर्ता
- एक संदेश
- एक वाक्य
- एक प्राप्तकर्ता

निम्नलिखित में से सही कोड चुनिये

- (A) केवल (i), (iii) व (iv)
(B) केवल (i), (ii) व (iii)
(C) केवल (i), (ii) व (iv)
(D) केवल (ii), (iii) व (iv)
(E) उपर्युक्त सभी

8. एक संगठन में प्रभावी सम्प्रेषण के लिए निम्नलिखित घटक होते हैं।

- उद्देश्य की सत्य-निष्ठा
- सिद्धान्तवाद
- एकरूपता
- लचीलापन

निम्नलिखित में सही को चुनिये

- (A) (i), (ii) व (iii)
(B) (i), (iii) व (iv)
(C) (ii), (iii) व (iv)
(D) (i), (ii) व (iv)
(E) (i), (ii), (iii) व (iv)

7. In any type of communication the following are included

- A sender
- A message
- A sentence
- A receiver

Select the correct code from those given below

- (A) (i), (iii) and (iv) only
(B) (i), (ii) and (iii) only
(C) (i), (ii) and (iv) only
(D) (ii), (iii) and (iv) only
(E) All of the above

8. Following are the elements for effective communication in an organization

- Integrity of purpose
- Dogmatism
- Uniformity
- Flexibility

Select the correct one from the following

- (A) (i), (ii) and (iii)
(B) (i), (iii) and (iv)
(C) (ii), (iii) and (iv)
(D) (i), (ii) and (iv)
(E) (i), (ii), (iii) and (iv)

(COMMUNICATION)

9. सम्प्रेषण उन कारकों से प्रभावित होता है जो प्रभावी सम्प्रेषण में अवरोध पैदा करते हैं। वे कारक हैं

- निस्पन्दन
- स्तर विभिन्नता स्थिति
- पृष्ठपोषण
- नकारात्मकता

सही कोड का चयन कीजिए।

- (A) (i), (ii) व (iv)
(B) (i), (ii) व (iii)
(C) (ii), (iii) व (iv)
(D) (i), (iii) व (iv)
(E) उपर्युक्त सभी

10. एक समूह जब एक परियोजना पर कार्य कर रहा हो, तो दल (टीम) के मुखिया को अन्य व्यक्तियों से सम्प्रेषण करना होता है। सहकर्मियों से परियोजना के उद्देश्यों को सम्प्रेषित करते समय सहकर्मियों को निम्नलिखित में से किस तरह से मुखिया को सुनना चाहिए ?

- (A) निष्क्रिय सुनना
(B) पार्श्व सुनना
(C) प्रशंसक सुनना
(D) सक्रिय सुनना
(E) उपर्युक्त सभी

9. Communication is affected by those factors which create interruption in effective communication. These factors are

- Filtering
- Status differences
- Feedback
- Negativity

Choose the correct code

- (A) (i), (ii) and (iv)
(B) (i), (ii) and (iii)
(C) (ii), (iii) and (iv)
(D) (i), (iii) and (iv)
(E) All of the above

10. A group is working on a project; the team leader has to communicate with members of the group. While communicating the objectives of the project to the team members, how the members should listen to the team leader ?

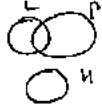
- (A) Passive listening
(B) Marginal listening
(C) Appreciative listening
(D) Active listening
(E) All of these

11. निर्देश : निम्नलिखित प्रश्न में दो कथनों (I एवं II) के बाद चार निष्कर्ष I, II, III तथा IV दिये गये हैं। आपको दोनों कथनों को सत्य मानना है, चाहे वे सामान्य स्थापित तथ्यों से विभेद रखते हों। सामान्य तथ्यों को न मानते हुये दोनों कथनों से तर्कसंगत रूप में कौनसे निष्कर्ष निकलते है, छांटिये।

कथन :

I. कुछ लाल पीले हैं।

II. कोई पीला हरा नहीं है।



निष्कर्ष :

I. कुछ पीले लाल है।

II. कुछ हरे लाल है।

III. कुछ लाल हरे नहीं है।

IV. सभी हरे लाल है।

(A) केवल II तथा III

(B) केवल I तथा II

(C) केवल I तथा III

(D) केवल III या केवल IV

(E) केवल I

11. Instruction : In the following question two statements (I and II) are followed by four conclusions I, II, III and IV. You have to take the two given statements to be true even if they seem to be at variance from the commonly known facts. Read the conclusions and then decide which of the given conclusions logically follows from the two given statements, disregarding the known facts.

Statement :

I. Some red are yellow

II. No yellow is green

Conclusions :

I. Some yellow are red

II. Some green are red

III. Some red are not green

IV. All green are red

(A) Only II and III follow

(B) Only I and II follow

(C) Only I and III follow

(D) Either III only or IV only follows

(E) Only I follows

12. निर्देश : प्रश्न संख्या 12 में दो कथन दिये गये हैं जिनके आधार पर पांच निष्कर्ष दिये गये हैं। आपको दिये गये कथनों को सत्य मानना है चाहे वे साधारण ज्ञात तथ्यों से मेल न खाते हों इन कथनों से तार्किक रूप से निकलने वाले सही निष्कर्ष को छांटिये।

कथन :

I. सभी बच्चे मेज़ है

II. सभी कुर्सियाँ बच्चे हैं

निष्कर्ष :

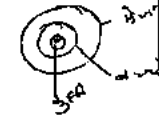
(A) कुछ बच्चे कुर्सियाँ है।

(B) कोई भी कुर्सी मेज नहीं है।

(C) सभी कुर्सियाँ मेजें है।

(D) कुछ मेजें कुर्सियाँ है।

(E) सभी मेजें कुर्सियाँ है।



13. निर्देश : प्रश्न संख्या 13 में एक कथन के पश्चात् दो तर्क I तथा II दिये गये हैं। आपको निर्णय करना है कि कौनसा तर्क 'मजबूत' है और कौनसा तर्क 'कमजोर' है ?

कथन : क्या भारत को अपनी ऊर्जा आवश्यकताओं की पूर्ति के लिए सौर ऊर्जा के उत्पादन हेतु प्रयास करना चाहिए ?

तर्क :

I. हाँ, वर्तमान में उपबोग में लाये जा रहे अधिकतर ऊर्जा के स्रोत समाप्त हो सकने वाले हैं।

II. नहीं, सौर ऊर्जा के उत्पादन में अत्यधिक धन की आवश्यकता होती है जिसकी भारत में कमी है।

(A) केवल तर्क I मजबूत है

(B) केवल तर्क II मजबूत है

(C) दोनों तर्क I तथा II मजबूत हैं

(D) दोनों तर्क I तथा II में से कोई भी मजबूत नहीं है

(E) इनमें से कोई नहीं

12. Instruction : In question No. 12 Two statements are followed by five conclusions. You have to take the given statements to be true even if they seem to be at variance with the commonly known facts. Select the correct option which logically follows from the two given statements.

Statement :

I. All children are tables

II. All chairs are children

Conclusions :

(A) Some children are chairs

(B) None of the chairs is a table

(C) All chairs are tables

(D) Some tables are chairs

(E) All tables are chairs

13. Instruction : In question No. 13 a statement is followed by two arguments numbered I and II. You have to decide which of the arguments is a 'strong' argument and which is a 'weak' argument ?

Statement : Should India make efforts to harness solar energy to fulfil its energy requirement ?

Argument :

I. Yes, most of the energy sources used at present are exhaustible.

II. No. Harnessing solar energy requires a lot of capital, which India lacks in.

(A) Only argument I is strong

(B) Only argument II is strong

(C) Both of the arguments I and II are strong

(D) Neither argument I nor argument II is strong

(E) None of these



14. निर्देश : प्रश्न संख्या 14 में एक कथन के पश्चात् तीन पूर्वधारणाएं दी गयी हैं। आपको कथन व पूर्वधारणाओं को ध्यान में रखते हुये निर्णय करना है कि कौनसी पूर्वधारणा / पूर्वधारणाएं कथन में अन्तर्निहित है।

कथन : एक बिजली कंपनी ने एक नोटिस के द्वारा सूचित किया कि जो भी उपभोक्ता निश्चित अवधि तक बिल की राशि जमा नहीं करवायेगा उससे प्रत्येक चूक (बाकीदारी) दिवस के हिसाब से दण्ड वसूला जायेगा।

पूर्वधारणाएं :

- I. दण्ड द्वारा एकत्रित राशि, बिल भुगतान में विलम्ब के कारण हुये नुकसान को भरपायी करेगी।
- II. सामान्यतः व्यक्ति सूचना को ध्यानपूर्वक देखते हैं
- III. अधिकांश व्यक्ति दण्ड से बचने के लिए नियत तिथि तक बिल का भुगतान कर देंगे

- ✓ (A) अवधारणाएं I, II तथा III अन्तर्निहित है
- (B) केवल अवधारणा I अन्तर्निहित है
- (C) कोई भी अवधारणा अन्तर्निहित नहीं है
- (D) केवल I और II अवधारणा अन्तर्निहित है
- (E) केवल II और III अवधारणा अन्तर्निहित है

14. Instruction : In question No. 14 a statement is followed by three assumptions. Consider the statement and assumptions and decide which of the assumption(s) is/are implicit in the statement ?

Statement : The electricity company informed the consumers through a notice that those who did not pay their bills by the due date would be charged penalty for every day of default.

Assumptions :

- I. Money collected as penalty would compensate for the losses incurred due to delay in making payments of the bills
- II. People generally heed notices
- III. Majority of people would pay their bills by the due date to avoid penalty

- (A) I, II and III are implicit
- (B) Only I is implicit
- (C) None of the assumptions is implicit
- (D) Only I and II are implicit
- (E) Only II and III are implicit

15. निर्देश : प्रश्न संख्या 15 में एक कथन एवं पाँच निष्कर्ष A, B, C, D तथा E दिये गये हैं। सभी निष्कर्षों को ध्यानपूर्वक पढ़कर निर्णय कीजिए कि दिये गये निष्कर्षों में से कौनसा एक निष्कर्ष आवश्यक रूप से दिये गये कथन से निकलता है।

कथन : उस दुकान में अधिकतर मोबाईल फोन महंगे हैं।

निष्कर्ष:

- (A) उस दुकान में कुछ मोबाईल फोन महंगे हैं
- (B) उस दुकान में ब्रांड X के मोबाईल फोन महंगे हैं
- (C) उस दुकान में कोई भी मोबाईल फोन सस्ता नहीं है
- (D) उस दुकान में कुछ मोबाईल फोन सस्ते हैं
- (E) सभी से कोई नहीं

16. आपके अधीनस्थ को अवकाश की आवश्यकता है परन्तु उसकी अनुपस्थिति से कार्यालय का कार्य प्रभावित होगा क्योंकि वह व्यक्ति उस कार्य के लिए मुख्य व्यक्ति है। आपको चाहिए कि

- (A) आप अपने उच्च अधिकारियों को इस मामले को भेज देंगे।
- (B) अवकाश स्वीकृत कर देंगे।
- (C) उससे मिलकर अवकाश के कारणों की विवेचना करेंगे और उसकी उपस्थिति की आवश्यकता के बारे में सहमत कराने की कोशिश करेंगे।
- (D) अन्य व्यक्ति को उसका कार्य करने को कहेंगे।
- (E) इनमें से कोई नहीं।

15. Instruction : In question No. 15 one statement is followed by five conclusions A, B, C, D and E. Read the conclusions carefully and then decide which one of the conclusions follows necessarily from the given statement.

Statement : Most of the mobile phones in that shop are costly.

Conclusions :

- (A) Some of the mobile phones in that shop are costly
- (B) Mobile phone of brand X are costly in that shop
- (C) None of the mobile phones in that shop is cheap
- (D) Some of the mobile phones in that shop are cheap
- (E) None of these

16. Your subordinate requires a leave but your office work will be affected due to his absence because he is a key person for that work. You should

- (A) refer his matter to your superiors
- (B) sanction the leave
- (C) meet him and discuss about the reason of leave and try to convince him the urgent need of his presence
- (D) ask another person to do his work
- (E) none of these

XXXXXXXXXX

17. आपका स्थानान्तरण एक नये विभाग में हो गया है। आप देखते हैं कि स्टॉफ के अधिकतर सदस्य अन्य दूसरे सदस्यों की आलोचना करते हैं। आपको चाहिए कि

(A) स्टॉफ के सदस्यों की कमजोरियों को जानने का प्रयास करेंगे।

(B) आप सुनेंगे और उनमें से कुछ को इसकी विवेचना हेतु चुनेंगे।

(C) आप एक बैठक रखेंगे और एक संगठनात्मक संस्कृति उत्पन्न करने का प्रयास करेंगे।

(D) मामले को अनदेखा कर देंगे।

(E) उच्च अधिकारियों को शिकायत करेंगे।

18. आप एक टीम के प्रबन्धक हैं। आप देखते हैं कि आपके कर्मचारियों का कार्यविधान अनुपयुक्त है जो आप में तनाव उत्पन्न कर रहा है। आपको चाहिए कि

(A) अनुपयुक्त कार्यविधान के कारण खोजकर उच्चाधिकारियों को सूचित कर देंगे।

(B) बेहतर कार्यविधान के लिए प्रोत्साहन प्रक्रिया की शुरुआत करें

(C) एक संगठनात्मक संस्कृति उत्पन्न करें जिसमें कार्यकर्ता अपने आपको जुड़ा महसूस करें।

(D) कार्यकर्ताओं के लिए विशिष्ट मानव संसाधन प्रशिक्षण लागू करें

(E) उपर्युक्त सभी

17. You have been transferred to a new department. You find that most of the staff members criticize one another. You should

(A) Try to know the weakness of staff members

(B) Listen and then choose some of them to discuss the matter

(C) Hold a meeting and try to create an organizational culture

(D) Overlook the matter

(E) Complain to the higher authorities

18. You are a team manager. You find that your employees' performance is inappropriate that induces/creates a stress for you. You should

(A) Explore the reason of inappropriate performance and report to the higher authorities

(B) Start an incentive mechanism for better performance

(C) Create an organizational culture in which the employee feels to be concerned

(D) Implement special human resource training for the employees

(E) All of the above

XXXXXXXXXX

19. एक लोक सेवक में निम्नलिखित में से कौनसा अन्तरव्ययक्तिक कौशल होना अनिवार्य है ?

i) समस्या समाधान और निर्णय करना

ii) संज्ञानात्मक और विश्लेषणात्मक योग्यताएँ

iii) पहल करना और बहुकार्य करना

iv) प्रभावशीलता और दृढ़ निश्चयता

सही विकल्प छांटिये

(A) (i), (ii) व (iv)

(B) (i), (iii) व (iv)

(C) (ii), (iii) व (iv)

(D) (i), (ii) व (iii)

(E) उपर्युक्त सभी

20. आप अपने संगठन की एक परिवर्तित नीति के नियमों के बारे में बताना चाहते हैं। एक संगठन के मुखिया होने के नाते उस नीति की नवीनतम जानकारी को अपने अधीनस्थों तक पहुंचाने में आप निम्नलिखित में से कौनसी सम्प्रेषण प्रणाली का चुनाव करेंगे ?

(A) मौखिक सम्प्रेषण

(B) लिखित सम्प्रेषण

(C) मौखिक सम्प्रेषण के पश्चात् लिखित सम्प्रेषण

(D) मीडिया के द्वारा

(E) उपर्युक्त में से कोई नहीं

19. Which of the following interpersonal skills for the civil servants should be essential ?

i) Problem solving and decision making

ii) Cognitive and analytical abilities

iii) Initiative and multitasking

iv) Dominance and firm determination

Choose the correct one

(A) (i), (ii) and (iv)

(B) (i), (iii) and (iv)

(C) (ii), (iii) and (iv)

(D) (i), (ii) and (iii)

(E) All of the above

20. You want to communicate about the changed rule of a policy of your organization. As the head of the organization, which one of the following mode of communication will you choose to convey the latest information about the policy to your subordinates ?

(A) Oral communication

(B) Written communication

(C) Oral communication followed by written communication

(D) Through media

(E) None of the above



निर्देश

निर्देश (प्र.21 व 22) : एक गद्यांश के पश्चात् कुछ निष्कर्ष दिये गये हैं। आपको प्रत्येक निष्कर्ष की जांच गद्यांश के सन्दर्भ में कर उसकी सत्यता की कोटि पर निर्णय करना है। आप

- (A) लिखें यदि आप सोचते हैं कि निष्कर्ष 'पूर्णतया सत्य' है
- (B) लिखें यदि आप सोचते हैं कि निष्कर्ष 'संभवतः सत्य' है
- (C) लिखें यदि दिये गये आंकड़े अपर्याप्त हैं
- (D) लिखें यदि आप सोचते हैं कि निष्कर्ष 'संभवतः असत्य' है
- (E) लिखें यदि आप सोचते हैं कि निष्कर्ष 'निश्चित रूप से असत्य' है।

हमारे देश में जल के स्रोतों का बहुत कम सदुपयोग हुआ है। बहुत न्यून सदुपयोग होने का कारण, धन व प्रौद्योगिक का अभाव है। जल के स्रोतों का बड़ा भाग बाढ़ में बहने तथा सिंचाई व घरेलू कार्यों में अविवेकपूर्ण उपभोग के कारण व्यर्थ जाता है। हम जल के स्रोतों का पूर्ण सदुपयोग, नदियों पर बांध बनाकर व लोगों में पानी के दुरुपयोग के प्रति जागरूकता पैदा करने से कर सकते हैं।

21/ जल के स्रोतों का संरक्षण उनके बुद्धिमता पूर्ण उपयोग से संभव है।

22/ प्रौद्योगिकी का जल के सदुपयोग में कोई प्रभाव नहीं है।

Instruction for Q. No. 21 and 22 : A passage is followed by some inferences. You have to examine each inference separately in the context of the passage only and decide upon its degree of truth or falsity. Mark your answer.

- (A) If you think the inference is 'definitely true'
- (B) If you think the inference is 'probably true'
- (C) If the data given is inadequate
- (D) If you think the inference is 'probably false'
- (E) If the inference is definitely false

The water resources of our country are very much underutilized. The main reason of this underutilization is the lack of capital and technology. A large portion of our water resources is wasted due to floods and unwise use of water for irrigation as well as domestic purposes. We can make full use of our water resources by building dams on rivers and by adopting policy of awareness among people not to waste water.

21. Conservation of water resources is possible through wise use of water.
22. Technology does not have any effect on uses of water utilization.

निर्देश

23. निर्देश : प्रश्न संख्या 23 में एक कथन के पश्चात् दो क्रिया पथ I तथा II दिये गये हैं। कथनों में दिये गये तथ्यों को सही मानते हुए कथन में दी गई सूचना के आधार पर निर्णय कीजिए कि सुझाये गये क्रिया पथों में से कौनसा क्रिया पथ तार्किक रूप से सही है ?



कथन : यह प्रतिवेदित है कि सब्जियों और फलों के विटामिन व मिнерल (खनिज लवण) मानव के स्वास्थ्य के लिए लाभदायक होते हैं। दवाईयाँ स्वास्थ्य पर वही प्रभाव नहीं डालती है।

क्रिया पथ :

- I. व्यक्तिओं को उनके शरीर की विटामिन एवम् खनिजों की आवश्यकता के अनुरूप ताजे फलों एवम् सब्जियों को ग्रहण करने के लिये प्रोत्साहित करना चाहिये।
- II. विटामिन व खनिज की दवाईयों की बिक्री को प्रतिबंधित करना चाहिये।
- (A) केवल II
- (B) केवल I
- (C) या तो I या II
- (D) I और II दोनों में से कोई नहीं
- (E) I और II दोनों

23. **Instruction :** In question no. 23 a Statement is followed by two courses of action numbered I and II. You are supposed to assume everything in the statement to be true and on the basis of the information given in the statement decide which of the suggested course of action logically follow(s) ?

Statement : It is reported that vitamins and minerals in vegetables and fruits are beneficial for human body. Medicines do not have the same effect on human body.

Course of action :

- I. People should be encouraged to take fresh fruits and vegetables to meet human body's requirement of vitamins and minerals.
- II. The sale of medicines of vitamins and minerals should be banned.
- (A) Only II follows
- (B) Only I follows
- (C) Either I or II follows
- (D) Neither I nor II follows
- (E) Both I and II follows

निम्नलिखित गद्यांश को पढ़िए तथा इस पर आधारित प्रश्नों

क्र. 24 से 26 तक का उत्तर दीजिए।

सात दोस्त अनु, बीना, कनिका, मोहिनी, समीना, एस्थर और रानी अलग-अलग विषय जैसे कला, वाणिज्य, विज्ञान, इन्जिनियरिंग, भवन कला (आर्किटेक्चर), प्रबंधन तथा फार्मसी प्राप्त करती हैं परन्तु ये क्रमानुसार हो आवश्यक नहीं है। इनमें से प्रत्येक अलग-२ राज्यों जैसे आन्ध्र प्रदेश, उत्तर प्रदेश, महाराष्ट्र, कर्नाटक, केरल, छत्तीसगढ़ तथा पंजाब से हैं परन्तु क्रमानुसार होना आवश्यक नहीं है। कनिका इन्जिनियरिंग पढ़ती है परन्तु उत्तर प्रदेश या पंजाब से नहीं है। जो छत्तीसगढ़ राज्य से है वह आर्किटेक्चर या फार्मसी का अध्ययन नहीं करती है। अनु महाराष्ट्र से है। समीना केरल से है और विज्ञान का अध्ययन करती है। जो आन्ध्र प्रदेश से है वह वाणिज्य का अध्ययन करती है। मोहिनी, प्रबंधन तथा रानी कला का अध्ययन करती है। बीना कर्नाटक से है और आर्किटेक्चर का अध्ययन नहीं करती है। जो कला का अध्ययन करती है वह पंजाब से नहीं है।

24. निम्नलिखित में से कौनसा विद्यार्थी-विषय जोड़ा सही है ?

- (A) अनु - आर्किटेक्चर (भवन कला)
(B) एस्थर - फार्मसी
(C) बीना - वाणिज्य
(D) मोहिनी - इन्जिनियरिंग
(E) समीना - प्रबंधन

Read the following passage and give answer of the questions from 24 to 26 based on this

Seven friends Anu, Beena, Kanika, Mohini, Samina, Easter and Rani study different disciplines such as Arts, Commerce, Science, Engineering, Architecture, Management and Pharmacy, not necessarily in the same order. Each of them belongs to a different state viz., Andhra Pradesh, Uttar Pradesh, Maharashtra, Karnataka, Kerala, Chhattisgarh and Punjab, but not necessarily in the same order.

Kanika studies Engineering and does not belong to either Uttar Pradesh or Punjab. The one who belongs to Chhattisgarh does not study Architecture or Pharmacy. Anu belongs to Maharashtra. Samina belongs to Kerala and Studies Science. The one who belongs to Andhra Pradesh studies Commerce. Mohini studies Management and Rani studies Arts. Beena belongs to Karnataka and does not study Architecture. The one who studies Arts does not belong to Punjab.

24. Which of the following student and subject combination is correct ?

- (A) Anu - Architecture
(B) Easter - Pharmacy
(C) Beena - Commerce
(D) Mohini - Engineering
(E) Samina - Management

निम्नलिखित

25. निम्नलिखित में कौनसा राज्य-विषय जोड़ा सही है ?

✓ छत्तीसगढ़ - इन्जिनियरिंग

II. पंजाब - फार्मसी

III. आन्ध्र प्रदेश - वाणिज्य

IV. आन्ध्र प्रदेश - आर्किटेक्चर

(A) केवल I व II

(B) केवल II व III

(C) केवल I व IV

(D) केवल I व III

(E) केवल III व IV

26. निम्नलिखित में से कौनसा विद्यार्थी - राज्य जोड़ा सही है ?

✓ कनिका - छत्तीसगढ़

II. समीना - आन्ध्र प्रदेश

III. एस्थर - कर्नाटक

IV. मोहिनी - पंजाब

(A) केवल I व II

(B) केवल I व III

(C) केवल I व IV

(D) केवल II व III

(E) केवल II व IV

25. Which of the following state-subject combination is/are correct ?

I. Chhattisgarh - Engineering

II. Punjab - Pharmacy

III. Andhra Pradesh - Commerce

IV. Andhra Pradesh - Architecture

(A) Only I and II

(B) Only II and III

(C) Only I and IV

(D) Only I and III

(E) Only III and IV

26. Which of the following student-state combination is/are correct ?

I. Kanika - Chhattisgarh

II. Samina - Andhra Pradesh

III. Easter - Karnataka

IV. Mohini - Punjab

(A) Only I and II

(B) Only I and III

(C) Only I and IV

(D) Only II and III

(E) Only II and IV

27. कथन: पिछले तीन महीनों में अनाज व सब्जियों के दाम तीस प्रतिशत के लगभग बढ़ गये हैं। उपर्युक्त प्रभाव के लिए निम्नलिखित में से कौनसा सम्भावित कारण हो सकता है ?

- (A) किसानों ने अपने खेती करने के तरीकों को बदलने का निर्णय किया है
 (B) अन्य उत्पादों के दाम भी ३०% से अधिक बढ़े हैं
 (C) किसानों की संख्या में कमी आयी है
 (D) कृषि व्यवसाय को सम्माननीय कार्य के रूप में नहीं देखा जाता है
 (E) उपर्युक्त में से कोई नहीं

28. निर्देश: प्रथम तीन तथ्यों में दी गयी सूचना के आधार पर सही उत्तर छांटिये

- (a) बांध नदी के किनारे बने होते हैं
 (b) भाखड़ा नांगल एक बांध है
 (c) भाखड़ा नांगल कंक्रीट सामान से बना हुआ है।

यदि उपर्युक्त तीन कथन तथ्य हैं तो निम्नलिखित में से कौनसा कथन एक तथ्य है ?

- I. भाखड़ा नांगल नदी किनारे पर स्थित है
 II. सभी बांध कंक्रीट सामान से बने होते हैं
 III. सभी कंक्रीट सामान पहाड़ी क्षेत्रों में उपलब्ध होते हैं

- (A) केवल I
 (B) केवल II
 (C) केवल III
 (D) केवल I व II
 (E) I, II व III

27. Statement : The prices of foodgrains and vegetables have increased about thirty percent in the past three months. Which of the following can be a probable cause of the above effect ?

- (A) The farmers have decided to change their farming style
 (B) The prices of other products have increased more than 30%
 (C) The number of farmers has reduced
 (D) Occupation of farming has not been viewed as a reputed work
 (E) None of the above


28. Instruction : Choose the correct answer based only on the information given in the first three facts

- (a) Dams are situated on the bank of a river
 (b) Bhakra Nangal is a dam
 (c) Bhakra Nangal was made up of concrete materials.

If the above three statements are facts, then which one of the following statements must be a fact ?

- I. Bhakra Nangal is situated on the bank of a river
 II. All dams are made up of concrete materials
 III. All concrete materials are available on hilly areas

- (A) I only
 (B) II only
 (C) III only
 (D) I and II only
 (E) I, II and III



29. एक फाइल को पढ़ते हुए आपको पता लगता है कि एक बाबू ने कार्यालय को पेंशन की राशि का गबन किया है। ऐसे में आप क्या करेंगे ?

- (A) आप मामले को पुलिस को सौंप देंगे।
 (B) सम्बन्धित लिपिक को गबन की राशि जमा कराने के लिए कहेंगे।
 (C) लिपिक से गबन की गई राशि में से अपना हिस्सा देने के लिए कहेंगे
 (D) सारे मामले पर ध्यान नहीं देंगे और चुप रहेंगे
 (E) इनमें से कोई नहीं

30. निर्णय लेने के लिए व्यक्ति को

- (A) सावधान पूर्वक तर्क करना पड़ता है
 (B) कारण-परिणाम सम्बन्ध देखना होता है
 (C) तथ्यों का ठीक से विश्लेषण करना पड़ता है
 (D) समस्या का विश्लेषण करना पड़ता है
 (E) उपर्युक्त सभी कार्य करने पड़ते हैं

31. आपका एक आधीनस्थ कर्मचारी बिना पूर्व स्वीकृति के कार्य से अनुपस्थित रहने का आदी है। वह आप द्वारा दी गई चेतावनी पर ध्यान नहीं देता है। आप उसकी सेवा समाप्त करना चाहते हैं। आप निम्नलिखित कार्यवाही करते हैं। आपकी कार्यवाही का सही क्रम क्या होगा ?

- I. उसे सेवा से निलम्बित करेंगे।
 II. उसे कारण बताओ नोटिस देंगे।
 III. उसे अपना पक्ष रखने का समय देंगे।
 IV. उसकी सेवा समाप्त करेंगे।

- (A) I, III, II, IV
 (B) II, III, I, IV
 (C) II, I, III, IV
 (D) III, I, II, IV
 (E) III, II, I, IV

29. While going through a file you come to know that a clerk has embezzled the office pension fund. What will you do ?

- (A) handover the case to the police
 (B) ask the concerned clerk to deposit the embezzled amount
 (C) ask the clerk to give you your share of the embezzled amount
 (D) overlook the case and keep quiet
 (E) none of these

30. For making decision one has to

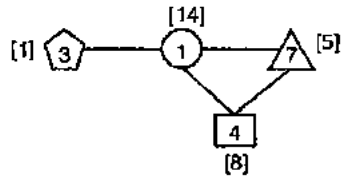
- (A) reason carefully
 (B) see cause-effect relationship
 (C) analyse the facts properly
 (D) analyse the problem
 (E) all of the above

31. One of your subordinates is in the habit of remaining absent from work without seeking permission. He does not pay any attention to warnings given by you. You want to terminate his services. You will take following actions. What will be the correct sequence of actions ?

- I. Suspending him from service
 II. Give showcause notice
 III. Give time for presenting his case
 IV. Terminating his service

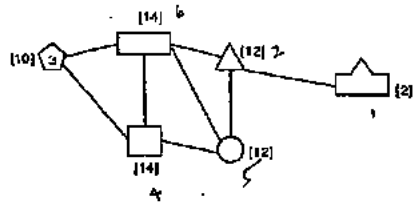
- (A) I, III, II, IV
 (B) II, III, I, IV
 (C) II, I, III, IV
 (D) III, I, II, IV
 (E) III, II, I, IV

32. निम्नलिखित आरेख पर ध्यान दीजिए :



इस आरेख में आकृति-विशेष के निकट [] कोष्ठक में दी गई संख्या, उस आकृति से जुड़ी अन्य सभी आकृतियों के भीतर लिखी गई संख्याओं का योग है।

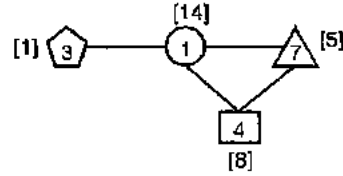
नीचे दिए गये आरेख की आकृतियों के भीतर, उपरोक्त नियम के आधार पर 1 से 6 तक की संख्याएं इस प्रकार लिखी जानी हैं कि संख्याओं की पुनरावृत्ति न हो।



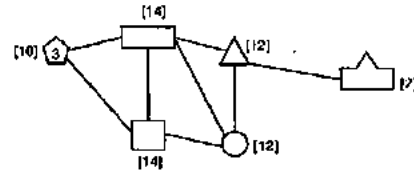
निम्नलिखित में से सही विकल्प चुनिए :

- (A) [6] [4] [5] [2] [1]
 (B) [6] [4] [2] [5] [1]
 (C) [5] [2] [6] [1] [4]
 (D) [4] [2] [6] [1] [5]
 (E) इनमें से कोई नहीं

32. Study the diagram given below :



The number written within brackets [] in the vicinity of a particular figure is the sum of the numbers written inside the figures which are connected to this particular figure. Now, in the diagram given below, you have to follow the above mentioned rule in order to insert the numbers from 1 to 6 (without repetition) in the different figures.



Choose the correct option from the following :

- (A) [6] [4] [5] [2] [1]
 (B) [6] [4] [2] [5] [1]
 (C) [5] [2] [6] [1] [4]
 (D) [4] [2] [6] [1] [5]
 (E) None of the above

33.

आपका एक कर्मचारी आपको सूचना देता है कि श्री X का आतंकवादियों से सम्बन्ध है। वह आपसे उसके विरुद्ध तत्काल कार्यवाही करने की प्रार्थना करता है। आप

- (A) तत्काल उसे निलम्बित कर देंगे
 (B) उसे अपने कमरे में बुलायेंगे और डांट - डपट करेंगे
 (C) कठोर निर्णय लेने से पूर्व चुपचाप मामले की जांच करेंगे
 (D) उसको पुलिस के सुपुर्द कर देंगे
 (E) कुछ नहीं करेंगे और उस पर ध्यान नहीं देंगे

34. आपको चार कम्पनियों से नियुक्ति पत्र प्राप्त होते हैं। आप निम्न में से किसे चुनेंगे ?

- (A) उस कम्पनी को जो अच्छा पॅकेज देती है पर वह कुख्यात है।
 (B) उस कम्पनी को जो कम वेतन देती है पर प्रतिष्ठित है।
 (C) उस कम्पनी को जो अच्छा वेतन देती है पर शराब का व्यापार करती है।
 (D) उस कम्पनी को जो अच्छा वेतन देती है पर उसमें कार्य के घण्टे अधिक है रात में।
 (E) उस कम्पनी को जो अच्छा पॅकेज देती है परन्तु भविष्य की सुरक्षा नहीं है।

33. One of the employees reports you that Mr. X has links with the terrorists and requests you to take immediate action against him. You would

- (A) immediately suspend him
 (B) call him in your Chamber and reprimand him
 (C) secretly enquire the matter before taking strong action
 (D) hand him over to the police
 (E) do nothing and neglect him

34. You get appointment letters from four companies. Which of the following you choose ?

- (A) The company which offers good package but illfamed
 (B) The company which offers small salary but prestigious
 (C) The company which deals in wine but offers good salary
 (D) The company which offers good salary but has long working hours in the night
 (E) The company which offers good salary but no security about the future

35. एक समस्या के समाधान हेतु व्यक्ति को
- समस्या का अच्छी तरह विश्लेषण करना पड़ता है
 - दूसरों की सलाह पर निर्भर करना पड़ता है
 - समस्या के बारे में हर सम्भव सूचना एकत्रित करनी पड़ती है

उपर्युक्त कथनों में से कौनसे कथन सही हैं ?

- (A) I व III
(B) केवल I
(C) II व III
(D) I व II
(E) केवल III

36. समस्या समाधान में सर्वाधिक महत्वपूर्ण शर्त है :

- (A) अपसारी चिन्तन
(B) अभिसारी चिन्तन
(C) समस्या को उसकी पूर्णता में समझना
(D) त्रुटियों को क्रमिक रूप से कम करने की प्रक्रिया
(E) इनमें से कोई नहीं

37. आपके कार्यालय का एक सेवा निवृत्त कर्मचारी आपके कमरे में धड़ल्ले से घुसता है तथा यह शिकायत करते हुए चिल्लाता है कि कोई भी उसके पेंशन प्रकरण को निपटाने में मदद नहीं करता है। आप ऐसे में सर्व प्रथम जो करेंगे वह है

- (A) चपरासी को बुलाकर उस व्यक्ति को अपने कमरे से बाहर कर देने के लिए कहेंगे
(B) आप स्वयं उसे कमरे से बाहर जाने के लिए कहेंगे
(C) कुछ नहीं करेंगे और उस पर ध्यान नहीं देंगे
(D) उसे बैठने के लिए कहेंगे अपनी समस्या आपको बताने के लिए कहेंगे
(E) इनमें से कोई नहीं

35. For solving a problem one has to

- Analyse the problem thoroughly
- Depend on the advice of the others
- Collect all possible information about the problem

Which of the above statements are/is correct ?

- (A) I and III
(B) Only I
(C) II and III
(D) I and II
(E) Only III

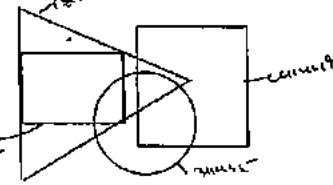
36. The most important condition in problem solving is

- (A) divergent thinking
(B) convergent thinking
(C) perceiving the problem in its totality
(D) gradual process of elimination of error
(E) none of these

37. A retired employee of your office rushes in your office and begins to shout at you complaining that no one helps him in settling his pension matter. The first thing you would do is

- (A) ask the peon to turn the person out of your chamber
(B) ask the person to go away from your chamber
(C) do nothing and neglect him
(D) ask the person to be seated and tell you what is his problem
(E) none of these

निर्देश (प्र.सं. 38 व 39) नीचे दिया गया चित्र व्यक्तियों के समूह को प्रतिनिधित्व करता है। त्रिभुज शिक्षित व्यक्तियों को प्रतिनिधित्व करता है, आयत प्रशासनिक व्यक्तियों को प्रतिनिधित्व करता है, वर्ग व्यापारियों को प्रतिनिधित्व करता है और वृत्त आयकर देने वाले व्यक्तियों को प्रतिनिधित्व करता है।



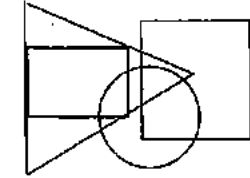
38. उपर्युक्त चित्र से निम्नलिखित निष्कर्ष पर पहुँच सकते हैं

- (A) सभी व्यापारी आयकर देते हैं
(B) कुछ प्रशासनिक व्यक्ति आयकर दाता हैं
(C) सभी आयकर दाता शिक्षित हैं
(D) शिक्षित व्यक्ति जो प्रशासनिक सेवा में नहीं है, आयकर नहीं देते हैं
(E) सभी व्यापारी शिक्षित हैं

39. उपर्युक्त चित्र के आधार पर सही निष्कर्ष है

- (A) कोई भी आयकर दाता शिक्षित नहीं है
(B) सभी प्रशासनिक व्यक्ति आयकर दाता हैं
(C) आयकर देने वाले व्यक्तियों में से कोई भी प्रशासनिक व्यक्ति नहीं है
(D) कुछ व्यक्ति जो न तो व्यापारी है और ना ही आयकर देते हैं, वे शिक्षित हैं
(E) उपर्युक्त में से कोई भी कथन सत्य नहीं है।

Instruction (Q. No. 38-39) : The following figure represents a group of persons. The triangle represents educated person, the rectangle represents the administrative persons, the square represents the businessman and the circle represents income tax payers.



38. From the above figure it can be concluded that

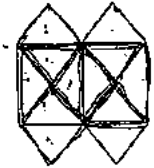
- (A) All Businessmen pay income-tax
(B) Some administrative person are income-tax payers
(C) All income tax payers are educated
(D) Educated person which are not in administrative service do not pay income tax
(E) All businessmen are educated

39. According to the above figure it can be inferred that

- (A) None of the income tax payer is educated
(B) All the administrative persons are income tax payers
(C) None of the income tax payer is administrative person
(D) Some of the persons who are neither businessman nor income tax payer are educated person
(E) None of the above statements is correct

1000000000

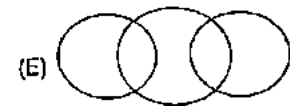
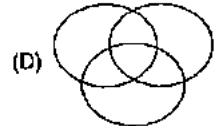
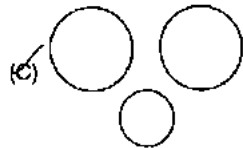
40. निम्नलिखित चित्र में कितने त्रिभुज है ?



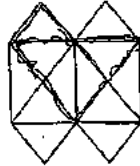
$$\begin{array}{r} + 12 \\ 12 \\ \hline 24 \end{array}$$

- (A) 20
(B) 22
(C) 16
(D) 24
(E) इनमें से कोई नहीं

41. निम्नलिखित में से कौनसा ग्रेनाइट, पेड़ व पानी को निरूपित करता है ?



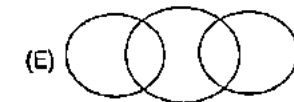
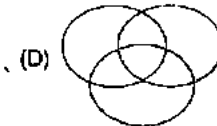
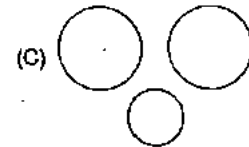
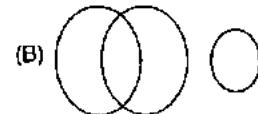
40. How many triangles are there in the following figure ?



$$\begin{array}{r} 12 \\ 8 \\ \hline 20 \end{array}$$

- (A) 20
(B) 22
(C) 16
(D) 24
(E) None of these

41. Which of the following represents Granite, tree and water ?



1000000000

42. एक फर्नीचर विक्रेता ने 1,500 रुपये की दर से दो मेजें बेची। उनमें से एक मेज पर 20% लाभ तथा दूसरी मेज पर 20% हानि हुई। इस सौदे में उसका लाभ अथवा हानि प्रतिशत है

4% हानि

(A) 4% हानि

$$\left(\frac{20}{100}\right)^2$$

(B) 4% लाभ

(C) न लाभ, न हानि

(D) 10% हानि

(E) 10% लाभ

$$\frac{R}{100} \times 100$$

43. पेट्रोल के भाव में 20% वृद्धि हो जाने पर एक व्यक्ति उसके उपयोग में कितने प्रतिशत कमी करे, जिससे पेट्रोल पर किया जाने वाला खर्च वही रहे ?

(A) $16\frac{2}{3}\%$

(B) $6\frac{2}{3}\%$

(C) 8%

(D) 15%

(E) इनमें से कोई नहीं

$$\begin{array}{l} \Rightarrow \frac{R}{100} \times 100 \\ \frac{R}{100} \times 100 \\ \frac{R}{100} \times 100 \\ \frac{R}{100} \times 100 \\ \frac{R}{100} \times 100 \\ \frac{R}{100} \times 100 \end{array}$$

42. A furniture seller sells two tables at Rs. 1,500 each. He earned a profit of 20% on one table and suffered a loss of 20% on the another table. Net profit or loss in this deal is

(A) 4% loss

(B) 4% profit

(C) Neither loss nor profit

(D) 10% loss

(E) 10% profit

43. If the price of petrol is increased by 20%, by what percentage should the consumption be decreased by the consumer if the expenditure on petrol remains unchanged ?

(A) $16\frac{2}{3}\%$

(B) $6\frac{2}{3}\%$

(C) 8%

(D) 15%

(E) None of these


44. एक छात्रावास में 50 छात्रों के लिए 45 दिन की भोजन सामग्री है, तो यह सामग्री 75 छात्रों के लिए कितने दिन के लिए पर्याप्त होगी ?

- (A) 25 दिन
 (B) 28 दिन
 (C) 30 दिन
 (D) 40 दिन
 (E) इनमें से कोई नहीं

$50 \rightarrow 45$
 $75 \rightarrow x$
 $\frac{50}{75} = \frac{45}{x}$
 $x = \frac{45 \times 75}{50}$
 $x = 67.5$
 30

45. एक लड़की उत्तर की ओर मुंह करके खड़ी है। वह चामावर्त 180° घूम कर पुनः दक्षिणावर्त 225° घूम जाती है। इस समय उसका मुंह किस दिशा में है ?

- (A) पश्चिम
 (B) उत्तर-पूर्व
 (C) दक्षिण - पश्चिम
 (D) पूर्व
 (E) उत्तर-पश्चिम



44. If in a hostel 45 days' food is available for 50 students, for how many days will this food be sufficient for 75 students ?

- (A) 25 days
 (B) 28 days
 (C) 30 days
 (D) 40 days
 (E) None of these




45. A girl is facing north. She turns 180° in the anticlockwise direction and then 225° in the clockwise direction. Which direction is she facing now ?

- (A) West
 (B) North - East
 (C) South - West
 (D) East
 (E) North-West

46. निम्नलिखित अक्षर - अंक श्रेणी में अगला पद है

A1 Z, E 2 V, I 6 R, M 21 N, Q 88 J, ?
 5 5 9 3 13 17

- (A) F 445 U
 (B) U 445 F
 (C) G 342 C
 (D) V 441 G
 (E) T 267 N



47. तम्बाकू : केसर जैसा सम्बन्ध दर्शाने वाला विकल्प छांटिये

- (A) दूध : भोजन
 (B) कली : फूल
 (C) मिट्टी : अपरदन
 (D) मच्छर : मलेरिया
 (E) मधुमक्खी : योम (वेक्स)

46. The next term in the following alphanumeric series, is

A1 Z, E 2 V, I 6 R, M 21 N, Q 88 J, ?

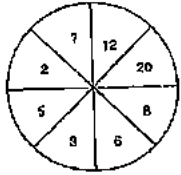
- (A) F 445 U
 (B) U 445 F
 (C) G 342 C
 (D) V 441 G
 (E) T 267 N

47. Choose the option that expresses the same relationship as the word Tobacco : Cancer, has

- (A) Milk : Food
 (B) Bud : Flower
 (C) Soil : Erosion
 (D) Mosquito : Malaria
 (E) Honeybee : Wax

QUESTION

48. दिये गये चित्र में अंक एक विशेष प्रतिरूप (पैटर्न) में दिये गये हैं।



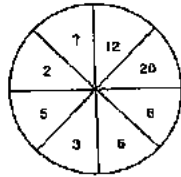
निम्नलिखित में से कौनसा अंक प्रश्नवाचक चिह्न (?) के स्थान पर आयेगा ?

- (A) 24
 (B) 6
 (C) 18
 (D) 10
 (E) 16

49. यदि DEMOCRATIC को EDMORCATCI लिखें तो उसी कोड में CONTINUOUS को किस प्रकार लिखेंगे ?

- (A) OCTNNIOUSU
 (B) OTCNINUOUS
 (C) OCNTNIUOUSU
 (D) OTNCINUOUSU
 (E) CONNITUOUSU

48. In the given figure, numbers have been arranged in a certain pattern



Which of the following will replace the question mark (?) sign ?

- (A) 24
 (B) 6
 (C) 18
 (D) 10
 (E) 16

49. If DEMOCRATIC is written as EDMORCATCI, how CONTINUOUS will be written in the same code ?

- (A) OCTNNIOUSU
 (B) OTCNINUOUS
 (C) OCNTNIUOUSU
 (D) OTNCINUOUSU
 (E) CONNITUOUSU



QUESTION

50. $\left(1 + \frac{1}{2}\right)\left(1 + \frac{1}{3}\right)\left(1 + \frac{1}{4}\right) \dots \left(1 + \frac{1}{150}\right)$ का मान है

मान है

- (A) 65.5
 (B) 50.5
 (C) 105
 (D) 75.5
 (E) इनमें से कोई नहीं

$$\frac{2}{2} \times \frac{3}{3} \times \frac{4}{4} \times \dots \times \frac{151}{150}$$

$$= \frac{151}{1}$$

51. यदि राकेश और मोहन की आयु का औसत 15, मोहन और रमेश की आयु का औसत 12 और राकेश और रमेश की आयु का औसत 13 हो, तो मोहन की आयु है

- (A) 16
 (B) 13
 (C) 14
 (D) 12
 (E) इनमें से कोई नहीं

$$\begin{aligned} R + M &= 15 \times 2 = 30 \\ M + R &= 12 \times 2 = 24 \\ R + R &= 13 \times 2 = 26 \end{aligned}$$

$$R + M = 30$$

$$M + R = 24$$

$$2R = 6 \Rightarrow R = 3$$

$$R + M = 30 \Rightarrow 3 + M = 30 \Rightarrow M = 27$$

50. The value of

$$\left(1 + \frac{1}{2}\right)\left(1 + \frac{1}{3}\right)\left(1 + \frac{1}{4}\right) \dots \left(1 + \frac{1}{150}\right), \text{ is}$$

- (A) 65.5
 (B) 50.5
 (C) 105
 (D) 75.5
 (E) None of these

51. If the average of the ages of Rakesh and Mohan is 15, average of the ages of Mohan and Ramesh is 12 and the average of the ages of Rakesh and Ramesh is 13, then the age of Mohan,

- (A) 16
 (B) 13
 (C) 14
 (D) 12
 (E) None of these

$$\begin{aligned} R + M &= 15 \times 2 = 30 \\ M + R &= 12 \times 2 = 24 \\ R + R &= 13 \times 2 = 26 \end{aligned}$$

$$R + M = 30$$

$$M + R = 24$$

$$2R = 6 \Rightarrow R = 3$$

$$R + M = 30 \Rightarrow 3 + M = 30 \Rightarrow M = 27$$

$$\begin{aligned} R + M &= 15 \times 2 = 30 \\ M + R &= 12 \times 2 = 24 \\ R + R &= 13 \times 2 = 26 \end{aligned}$$

$$R + M = 30$$

$$M + R = 24$$

$$2R = 6 \Rightarrow R = 3$$

$$R + M = 30 \Rightarrow 3 + M = 30 \Rightarrow M = 27$$

52. एक लड़की की तरफ इशारा करते हुए अनुराग कहता है कि " यह लड़की मेरे पिता की इकलौती सन्तान की पुत्री है" अनुराग की पत्नी का इस लड़की से क्या सम्बन्ध है ?

- (A) बहन का पुत्री → पुत्री
 (B) चाची का
 (C) पुत्री का
 (D) माता का
 (E) इनमें से कोई नहीं

53. निम्नलिखित में से कौनसा वर्ष अधिकतम है ?

- (A) 2800 70
 (B) 1800 95
 (C) 2600 60
 (D) 3000 7
 (E) उपर्युक्त सभी

54. एक धन वार्षिक चक्रवृद्धि ब्याज की दर से 6 वर्ष में दोगुना हो जाता है। उसी चक्रवृद्धि ब्याज की दर से कितने वर्षों में यह 16 गुना हो जायेगा ?

- (A) 48 वर्षों में
 (B) 36 वर्षों में
 (C) 24 वर्षों में
 (D) 20 वर्षों में
 (E) इनमें से कोई नहीं

52. Pointing towards a girl Anurag says "this girl is the daughter of the only child of my father". What is the relation of Anurag's wife with the girl ?

- (A) Sister
 (B) Aunt
 (C) Daughter
 (D) Mother
 (E) None of these

53. Which of the following is a leap year ? *

- (A) 2800
 (B) 1800
 (C) 2600
 (D) 3000
 (E) All of the above

54. A sum of money doubles itself at annual rate of compound interest in 6 years. In how many years will it become 16 times at the same rate of compound interest ?

- (A) 48 years
 (B) 36 years
 (C) 24 years
 (D) 20 years
 (E) None of these

55. प्रश्नवाचक चिह्न के स्थान पर कौनसा अक्षर आयेगा ?

D	M	V
F	P	Z
H	S	?

- (A) D
 (B) C
 (C) I
 (D) G

(E) K

56. श्रेणी 3, 20, 63, 144, 275, ? में प्रश्नवाचक चिह्न के स्थान पर निम्नलिखित में से कौनसी संख्या आयेगी ?

- (A) 520
 (B) 468
 (C) 648
 (D) 378
 (E) 560

55. Which letter will replace the question mark sign ?

D	M	V
F	P	Z
H	S	?

- (A) D
 (B) C
 (C) I
 (D) G

(E) K

56. Which of the following numbers will replace the question mark sign in the series 3, 20, 63, 144, 275, ?

- (A) 520
 (B) 468
 (C) 648
 (D) 378
 (E) 560



UNCOMMON

57. यदि किसी संख्या के 20% के $\frac{2}{5}$ भाग का $\frac{5}{12}$

भाग 252 है, तो संख्या है

(A) 5040

(B) 2520

(C) 7560

(D) 7650

(E) 5640

58. यदि एक कूट भाषा में UNCLE को 94672,

SISTER को 305821 तथा SON को 584

लिखा जाता है, तो उसी कूट भाषा में NOISE को लिखेंगे

(A) 64825

(B) 84652

(C) 49356

(D) 48352

(E) इनमें से कोई नहीं

57. If $\frac{5}{12}$ of $\frac{2}{5}$ of 20% of a number is 252,

then the number is

(A) 5040

(B) 2520

(C) 7560

(D) 7650

(E) 5640

58. If in a certain coded language UNCLE

is written as 94672, SISTER is written

as 535821 and SON is written as 584,

then what will be the code of NOISE in

that coded language ?

(A) 64825

(B) 84652

(C) 49356

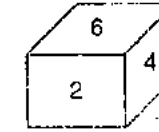
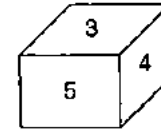
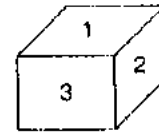
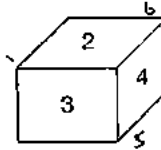
(D) 48352

(E) None of these



UNCOMMON

59. एक पासे (डाईस) की फलकों पर अंक 1, 2, 3, 4, 5 व 6 लिखे हैं। पासे की चार स्थितियां नीचे दी गयी हैं। फलक जिस पर 3 अंकित है, की विपरीत फलक पर कौनसा अंक होगा ?



(A) 4

(B) 5

(C) 6

(D) 1

(E) 2

60. प्रश्न संख्या 60 में एक परिस्थिति के पश्चात् दो निर्णय I और II दिये हुये हैं। परिस्थिति में दी गई सूचना को सही मानते हुये, उसी के आधार पर निर्णय कीजिए कि कौनसा निर्णय सही है ?

परिस्थिति: सरकारी प्राथमिक विद्यालयों में नामांकित विद्यार्थियों का 25 से 35 प्रतिशत तक विद्यार्थी विद्यालय नहीं आते हैं।

निर्णय-I : उनके अनुपस्थित रहने के कारणों का पता लगाना चाहिए।

निर्णय-II : उनके नाम विद्यालय से हटा देने चाहिए।

(A) केवल I ठीक है

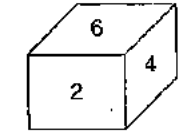
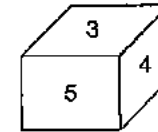
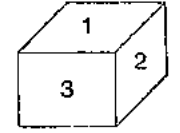
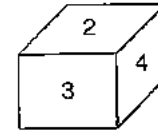
(B) केवल II ठीक है

(C) I और II में से कोई भी ठीक नहीं है

(D) I और II दोनों ठीक है

(E) इनमें से कोई नहीं

59. A die has numbers 1, 2, 3, 4, 5 and 6 on its faces. Four positions of die are shown below. The number on the face opposite to the number 3, is



(A) 4

(B) 5

(C) 6

(D) 1

(E) 2

60. In question No. 60 a situation is followed by two possible decisions I and II. On the basis of the information given in the situation, assuming everything in the situation to be true find which of the decisions is / are correct ?

Situation: About 25 to 35 percent of the enrolled student in Government primary schools do not attend the school.

Decision-I : Reasons for their absenteeism should be found out

Decision-II : Their names should be struck off from the school

(A) Only I is right

(B) Only II is right

(C) Neither I nor II is right

(D) Both I and II are right

(E) None of the above

XXXXXXXXXX

61. जब आप खुले मैदान में लोगों को सम्बोधित कर रहे होते हैं, तब ही बर्षा होने लगती है। आपका संबोधन महत्वपूर्ण है और आप इसे स्थगित नहीं कर सकते हैं। आप क्या करेंगे ? आप

(A) किसी व्यक्ति को छतरी की व्यवस्था करने के लिए कहेंगे

(B) थोड़ी देर अपने संबोधन को बंद कर देंगे

(C) बर्षा की परवाह किये बिना संबोधन को जारी रखेंगे

(D) संबोधन को एक दिन के लिए स्थगित कर देंगे

(E) उपर्युक्त में से कोई नहीं

62. आप अपने कार्यालय में चाय पी रहे हैं। कुछ चाय आपके कपड़े पर गिर जाती है। आप

(A) चपरासी को चाय पोंछने के लिए बुलायेंगे

(B) आप स्वयं अपने कपड़ों से चाय को पोछेंगे

(C) आप चाय के धब्बों को चुपा लेंगे।

(D) चपरासी द्वारा घर से कपड़े मांगवायेंगे।

(E) कुछ नहीं करेंगे और अपना काम जारी रखेंगे।

61. While addressing people in an open ground, it begins to rain. Your address is important and you cannot afford to postpone it. What will you do ? You would

(A) ask some one to arrange an umbrella

(B) stop your address for a while

(C) continue the address without bothering the rain

(D) postpone it for a day

(E) none of the above

62. You are having tea in your office. Some of the tea spills on your clothes. You will

(A) call the peon to wipe off the tea from your clothes

(B) yourself wipe off the tea from your clothes

(C) hide the stain marks

(D) ask the peon to fetch clothes from your house

(E) do nothing and continue your work



XXXXXXXXXX

63. आप अपने कार्यालय के प्रधान हैं। मीडिया के कुछ लोग आपके कार्यालय आते हैं और आपके कार्यालय की पेंशन योजना के बारे में बताने के लिए निवेदन करते हैं। आप

(A) मीडिया वालों से किसी अन्य दिन आने के लिए कहेंगे

(B) तत्काल उनकी प्रार्थना स्वीकार करेंगे तथा उनको योजना के बारे में बतायेंगे।

(C) उन्हें कार्यालय से बाहर निकलवा देंगे।

(D) उन्हें प्रतीक्षा करने के लिए कहेंगे तथा सम्बन्धित अधिकारियों से परामर्श करने के लिए कहेंगे।

(E) इनमें से कोई नहीं

64. निम्नलिखित में से कौनसे प्रभावी निर्णय कर्ता के लक्षण है ?

(A) चयनात्मकता

(B) ज्ञान

(C) पहलशक्ति (नेतृत्व)

(D) लचीलापन

(E) उपर्युक्त सभी

63. You are head of your office. Some media people come to your office and request you to brief them about the pension plan of your office. You will

(A) ask the media people to come some another day.

(B) immediately accept the offer and brief them

(C) get them turned out of your office

(D) ask them to wait and to consult the officials concerned

(E) none of these

64. Which of the following are characteristics of effective decision makers ?

(A) Selectivity

(B) Knowledge

(C) Initiative

(D) Flexibility

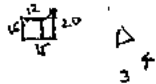
(E) All of the above

65. निम्नांकित में से कौनसा समस्या समाधान का सोपान नहीं है ?

- (A) समस्यात्मक स्थिति की पहचान करना
 (B) परिकल्पना का निर्माण करना
 (C) दत्त (डाटा) का संकलन करना
 (D) क्या अपेक्षित है, का वर्णन करना
 (E) उपर्युक्त में से कोई नहीं

66. अनामिका दक्षिण की ओर मुंह करके खड़ी है, 20 मीटर चलकर अपने दाहिने तरफ मुड़कर 15 मीटर चलती है, पुनः दाहिने तरफ मुड़कर 16 मीटर चलती है, फिर दाहिने तरफ मुड़कर 12 मीटर चलती है। इस समय वह अपने प्रारम्भिक बिन्दु से कितनी दूर है ?

- (A) 4 मीटर
 (B) 16 मीटर
 (C) 12 मीटर
 (D) 07 मीटर
 (E) 5 मीटर



67. यदि '+' का अभिप्राय '-', '-' का अभिप्राय 'x', 'x' का अभिप्राय '+', '+' का अभिप्राय '+', तो $16 \times 2 + 25 + 7 - 4$, का मान है

- (A) 104
 (B) 5
 (C) 22
 (D) 4
 (E) 0

$$16 \div 2 + 25 - 7 \times 4$$

$$8 + 25 - 28$$

65. Which of the following is not a step of problem solving ?

- (A) Recognizing the problem-situation
 (B) Formulating hypotheses
 (C) Collecting data
 (D) Describing what is expected
 (E) None of the above

66. Anamika who is facing South walks 20 meters, then she turns to her right and walks 15 meters, then she turns to her right and walks 16 meters, again she turns to her right and walks 12 meters. How far is she from her starting point?

- (A) 4 meter
 (B) 16 meter
 (C) 12 meter
 (D) 07 meter
 (E) 5 meter

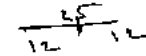
67. If '+' mean '-', '-' means 'x', 'x' means '+' and '+' means '+', then the value of $16 \times 2 + 25 + 7 - 4$, is

- (A) 104
 (B) 5
 (C) 22
 (D) 4
 (E) 0



68. एक क्षैतिज रेखा में 25 लड़के हैं। राहुल को उसके दाहिने तरफ तीन स्थान खिसकाने पर वह पंक्ति के मध्य में आ जाता है। पंक्ति के बायें सिरे से उसकी मूल स्थिति कौनसी थी ?

- (A) 15 वीं
 (B) 16 वीं
 (C) 12 वीं
 (D) 10 वीं
 (E) इनमें से कोई नहीं

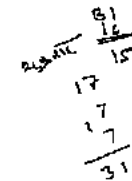


69. निम्नलिखित शब्दों को सार्थक क्रम में लगाइये।

- 1) सुव्यवस्थित करना (कम्पोज)
 2) सराहना
 3) पैसा
 4) सोचना
 5) गाना
 (A) 1, 4, 2, 5, 3
 (B) 4, 1, 5, 2, 3
 (C) 2, 4, 3, 5, 1
 (D) 5, 4, 2, 1, 3
 (E) 3, 2, 4, 1, 5

70. एक 31 दिवसीय महीने में 16 तारीख को तीसरा बृहस्पतिवार माना है तो महीने का अंतिम दिन होगा

- (A) पांचवां सुक्रवार
 (B) चौथा शनिवार
 (C) पांचवां बुधवार
 (D) पांचवां बृहस्पतिवार
 (E) इनमें से कोई नहीं



68. There are 25 boys in a horizontal row. Rahul was shifted by three places towards his right side and he occupies the middle position in the row. What was his original position from the left end of the row ?

- (A) 15th
 (B) 16th
 (C) 12th
 (D) 10th
 (E) None of these

69. Arrange the following words in a meaningful order.

- 1) Compose
 2) Appreciation
 3) Money
 4) Think
 5) Sing
 (A) 1, 4, 2, 5, 3
 (B) 4, 1, 5, 2, 3
 (C) 2, 4, 3, 5, 1
 (D) 5, 4, 2, 1, 3
 (E) 3, 2, 4, 1, 5

70. In a month of 31 days, third Thursday falls on 16th. What will be the last day of the month ?

- (A) 5th Friday
 (B) 4th Saturday
 (C) 5th Wednesday
 (D) 5th Thursday
 (E) None of these

निर्देश (प्रश्न सं. 71 से 73) : नीचे दी गयी सारणी में तीन राज्यों A, B और C के वर्ष 2006 से 2009 के मध्य चावल उत्पादन (टनों में) दर्शाये गये हैं। सारणी को ध्यान से पढ़कर प्रश्न संख्या 71 से 73 के उत्तर दीजिए।

वर्ष → राज्य ↓	2006	2007	2008	2009
A	5.6	3.7	4.6	7.3
B	4.7	5.2	8.0	6.5
C	3.8	7.4	5.9	3.1

14.1 15.5
4.4

71. तीनों राज्यों A, B और C के चावल उत्पादन को एक साथ लेने पर वर्ष 2006 व 2008 के उत्पादन में कितना अन्तर है ?
- (A) 5.4 टन
 (B) 4.8 टन
 (C) 5.1 टन
 (D) 4.4 टन
 (E) इनमें से कोई नहीं

Handwritten calculations:
 5.5
 20.2
 19.75
 6.5
 5.2
 1.3

Direction (Q. No.71 to 73) : In the following table production of rice (in tonnes) of three different states A, B and C over the years 2006 to 2009 is shown. Study the table carefully and answer the question No. 71 to 73.

Year → State ↓	2006	2007	2008	2009
A	5.6	3.7	4.6	7.3
B	4.7	5.2	8.0	6.5
C	3.8	7.4	5.9	3.1

71. What is the difference between the total production of rice (in tonnes) of all the three states (A, B and C) together in 2006 and 2008 respectively ?
- (A) 5.4 tonnes
 (B) 4.8 tonnes
 (C) 5.1 tonnes
 (D) 4.4 tonnes
 (E) None of these

Handwritten note: 14.1

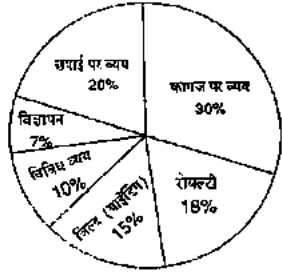


72. राज्य C का, सभी वर्षों को साथ लेने पर चावल का औसत उत्पादन (टनों में) क्या है ?
- (A) 4.95 टन
 (B) 5.05 टन
 (C) 5 टन
 (D) 4.6 टन
 (E) इनमें से कोई नहीं

73. राज्य B की वर्ष 2009 में 2007 की तुलना में चावल उत्पादन में वृद्धि प्रतिशत कितना है ?
- (A) 70%
 (B) 40%
 (C) 55%
 (D) 25%
 (E) निर्धारित नहीं किया जा सकता

72. What is the average production of rice (in tonnes) of state C for all the years together ?
- (A) 4.95 tonnes
 (B) 5.05 tonnes
 (C) 5 tonnes
 (D) 4.6 tonnes
 (E) None of these
73. What is the percentage increase in the production of rice in the state B in the year 2009 in comparison with 2007 ?
- (A) 70%
 (B) 40%
 (C) 55%
 (D) 25%
 (E) Cannot be determined

निर्देश (प्रश्न संख्या 74 व 75) : निम्नलिखित पाई चार्ट में एक पुस्तक प्रकाशन में हुए विभिन्न व्ययों का प्रतिशत दिया हुआ है। पाई चार्ट में दी गई सूचनाओं के आधार पर प्रश्न संख्या 74 व 75 के उत्तर दीजिए।



74. यदि कागज (पेपर) पर व्यय ₹ 1,50,000/- है, तो विज्ञापन पर व्यय है :

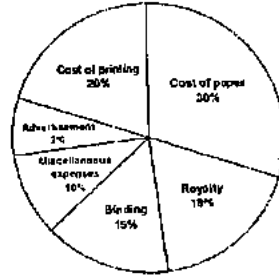
- (A) ₹. 35,000
(B) ₹. 3,500
(C) ₹. 40,000
(D) ₹. 25,000
(E) इनमें से कोई नहीं

75. छपाई पर हुए व्यय के सापेक्ष का केन्द्रीय कोण है

- (A) 60°
(B) 72°
(C) 45°
(D) 102°
(E) इनमें से कोई नहीं

Direction (Q. No. 74-75) :

In the following pie chart percentage expenses on various items during the production of a book are given. Based upon the information given in the pie chart, answer the question No. 74 and 75.



74. If the 'cost of paper' is Rs. 1,50,000 then the expense on advertisement, is

- (A) Rs. 35,000
(B) Rs. 3,500
(C) Rs. 40,000
(D) Rs. 25,000
(E) None of these

75. The central angle corresponding to the cost of printing, is

- (A) 60°
(B) 72°
(C) 45°
(D) 102°
(E) None of these

76. बहुवचनवाची अव्यय है

- (A) वर
(B) ले
(C) मन
(D) मा
(E) ओ

77. '-ला' प्रत्यय है

- (A) कर्ताकारकीय
(B) कर्मकारकीय
(C) करणकारकीय
(D) संप्रदानकारकीय
(E) अपादानकारकीय

78. बलवाची प्रत्यय है

- (A) -में
(B) -कर
(C) -र
(D) -च
(E) -का

79. 'हाथी' का स्त्रीलिंग होगा

- (A) हाथिन
(B) हाथिनी
(C) हाथनिन
(D) हाथिनी
(E) हाथीन

80. 'बकरी' को छत्तीसगढ़ी में कहते हैं

- (A) कोसिहा
(B) बिलई
(C) कुकुर
(D) मुसुबा
(E) छेरी

81. 'प्राचार्य जी आ रहे हैं _____ प्रणाम करो' वाक्य में रिक्त स्थान पर उपयुक्त सर्वनाम होगा।

- (A) उसे
(B) उसको
(C) उन्होंने
(D) उनके लिए
(E) उन्हें

82. 'गंगाजली उठाना' मुहावरे का अर्थ है

- (A) गंगा नहाना
(B) एक पात्र में गंगा जल भरना
(C) कसम खाना
(D) बड़बोलापन
(E) गंगाजल छिड़कना

83. निम्नांकित में से कौन-सा शब्द परिमाणवाचक विशेषण है ?

- (A) चमकीला
(B) अधिक
(C) सुगंधित
(D) प्राचीन
(E) तिकोना

84. 'आप क्या कहते हैं' में 'ने' परसर्ग लगाकर शुद्ध वाक्य बनेगा
- (A) आपने क्या कहते हैं
(B) अपने क्या कहते हैं
R (C) आप ने क्या कहते हैं
(D) आपने क्या कहा है
(E) इनमें से कोई नहीं
85. 'पूषा' किस शब्द का पर्याय है ?
- (A) मिथ्या
(B) मृत्यु
R (C) मुक्ति
(D) मित्र
(E) चूहा
86. इस के पूर्व प्रयोग से बहुवचन का द्योतन नहीं होता है
- (A) सब्बो
(B) खाल्हे
R (C) अब्बइ
(D) जम्पो
(E) बड़
87. 'ओ गे रहिस' का बहुवचन रूप होगा
- (A) ओहा मे रहिस
(B) ओ मग हा गे रहिस
J (C) ओ गे रहिन
(D) ओमन गे रहिन
(E) ओमन मे रहिस

88. छत्तीसगढ़ी में प्रश्नवाचक शब्द नहीं है
- (A) काबर
(B) कारन
R (C) काकर
(D) कतका
(E) कहाँ
89. छत्तीसगढ़ी में क्रियाविशेषण नहीं है
- (A) खाल्हे
(B) तभे
(C) एती
R (D) तुपुतें
(E) तोर
90. 'कब बबा मरही त कब बरा चुरही' का अर्थ है
- (A) किसी के लिए अपराधुन शब्द कहना।
(B) कार्य का अनिश्चित होना।
(C) प्रसन्नता व्यक्त करना।
R (D) किसी का इंतजार करना।
(E) निरर्थक कार्य करना।
91. 'विलक्षण और विचक्षण' शब्द के अर्थ हैं
- (A) विशेष और बुद्ध
(B) विभिन्न और ज्ञानी
(C) सज्जनता और विविधता
W (D) विलासी और विचरण करने वाला
(E) विचित्र और दक्ष
92. निम्नांकित में से किस वाक्य में सकर्मक क्रिया है ?
- (A) राम दौड़ा।
R (B) मैं रुक गया।
(C) उसने कार बेच दी।
(D) खिलाता टूट गया।
(E) राहुल सो गया।



93. निम्नांकित में से कौन-सा संयुक्त वाक्य है ?
- (A) गजू ने ऐसी कहानी सुनाई कि वह डर गया।
(B) राम गाना गा रहा होगा।
(C) राम जो तेज दौड़ता है, मेरा मित्र है।
W (D) राम बिल्कुल नहीं पढ़ा इसलिए फेल हो गया।
(E) हिरन ऐसा पशु है जो कुलार्थ भरता है।
94. निम्नांकित में से कर्तृ वाक्य का वाक्य बताइए।
- (A) तुलसीदास ने राम चरित मानस लिखी।
(B) राम द्वारा रावण को मारा गया।
R (C) आज टहलने चला जाए।
(D) छात्रों द्वारा फुटबाल खेली जाती है।
(E) उससे खया नहीं गया।
95. 'उदित उदय-गिरि मंच पर रघुवर बाल पतंग' में, कौन-सा अलंकार है ?
- (A) उपमा
(B) रूपक
W (C) उत्प्रेक्षा
(D) भ्रांतिमान
(E) मानवीकरण
96. 'अत्यंत' में कौन-सा उपसर्ग है ?
- (A) अ
R (B) अति
(C) अंत
(D) आ
(E) त

97. 'सनसनाहट' में कौन-सा प्रत्यय है ?
- (A) सन
(B) सनसन
R (C) हट
(D) आहट
(E) ट
98. 'नीलकंठ' में कौन-सा समास है ?
- (A) तत्पुरुष
(B) द्विगु
W (C) कर्मधारय
(D) इन्द्र
(E) बहुव्रीहि
99. 'धीठा' की भाववाचक संज्ञा होगी
- (A) मिठाई
R (B) मिठास
(C) मीठी
(D) मधुर
(E) मिठुआ
100. निम्नांकित में से कौन-सा शब्द उभयलिंगी है ?
- (A) डॉक्टर
R (B) विद्वान
(C) अभिनेत्री
(D) गायक
(E) नर्तकी